

3. osztályos év végi témazáró dolgozat

“A”

1. Kösd össze Magyarország nagytájait a leírásokkal!

6pont/

1. Magyarország északnyugati területén helyezkedik el. Hazánk legszelesebb tája. Talaja termékeny.

Alföld

2. Legészakibb hegyvidéki tájunk.

Kisalföld

3. Északi határa a Balaton, déli a Dráva folyó völgye. Nyugaton a Zala, keleten pedig a Duna határolja.

Északi-középhegység

4. Magyarország legnyugatibb tája.

Dunántúli-középhegység

5. Hazánk legnagyobb területű nagytája. Felszíne alacsony, nagyrészt sík.

Dunántúli-dombság

6. A Balaton északi partjától a Dunáig húzódik ez a hegyvidék.

Nyugat-magyarországi-peremvidék

2. Milyen irányban van a kiséértől a

8pont/

sajt.....

búza.....

kolbász.....


zsemle.....

mogyoró.....

kifli.....

dió.....

szotyola.....



3. Sorolj fel nyolc magyarországon honos haszonállatot!

8pont/

.....

.....

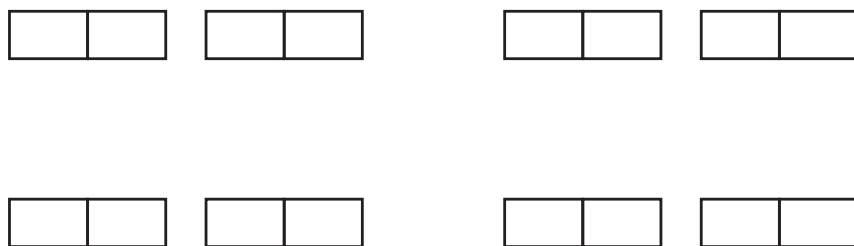
.....

4. Színezd úgy a mágneseket, hogy

4pont/

Vonzzák

Taszítsák egymást.



5. Ha a vízbe cukrot teszek,

3pont/

Mi a cukor?.....

Mi a víz?.....

Mi a cukrosvíz?.....

6. Melyik halmazállapotváltozás következik be, ha

4pont/

- egy hógolyót beviszek egy meleg szobába.....


- rálehelek az ablaküvegre.....

- jégkockát készítek.....

- teát készítek.....

7. Karikázd be a hulladékokat avval a színnel, amelyik színű kukába dobnád!

10pont/



Összesen 43 pont/