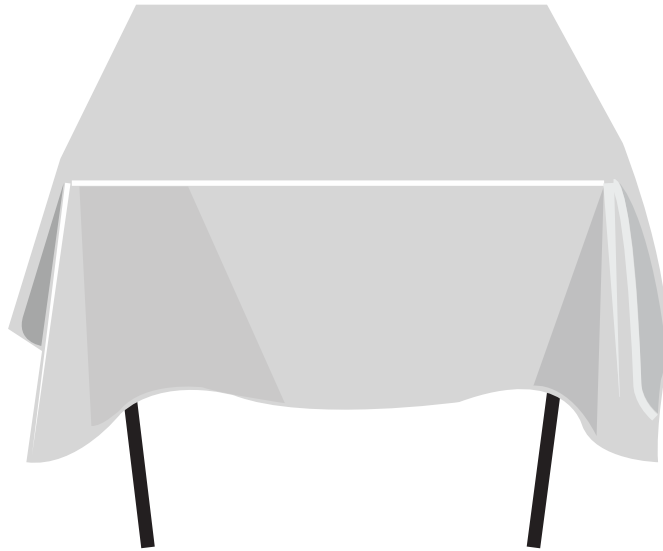


3. osztályos témazáró dolgozat II.

“B”

- 1.** Rajzold le az asztalra, hogy hogyan kell helyesen megteríteni!
Amit fel kell használnod: kés, villa, kanál, pohár, mélytányér,
lapostányér, szalvéta

7pont/



- 2.** Sorold fel hogyan kommunikálhatnak egymással az állatok!

4pont/

.....

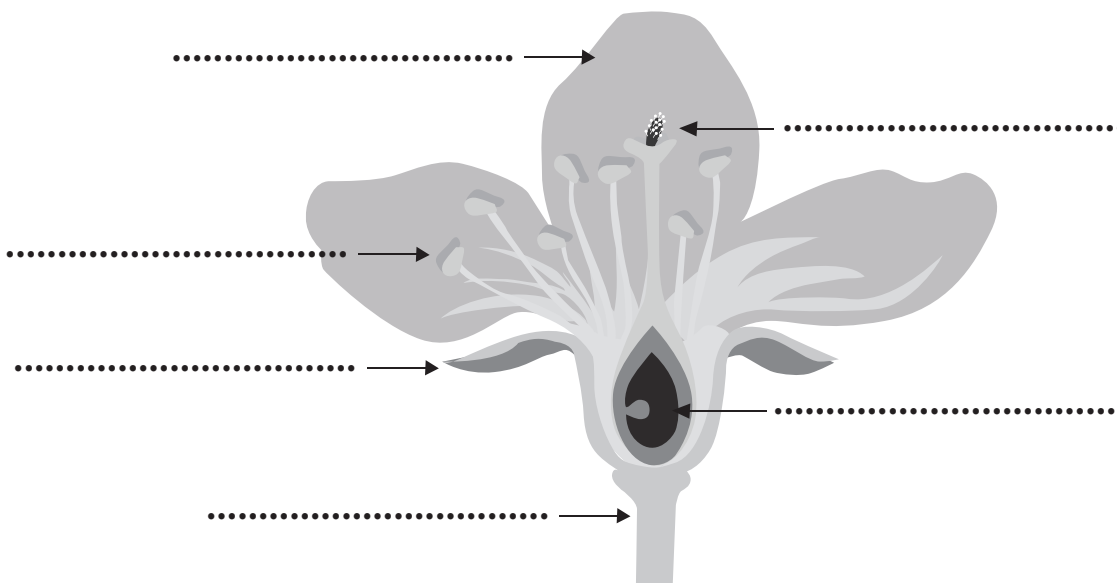
.....

.....

.....

- 3.** Nevezd meg a növény részeit!

6pont/



4. Sorold fel, hogy milyen feltételei vannak a növény fejlődésének! **6pont/**

.....
.....

5. Egészítsd ki a hiányos szöveget! **2pont/**


Ha egy állat egyik helyről a másikra jut, akkor
mozgást végez, ha a helye nem változik akkor pedig

6. Írd oda a leírások mellé, hogy a növényi mely részre jellemző! **6pont/**

- Rögzíti a növényt a talajhoz. Segítségével veszi fel a növény a talajból a vizet és a tápanyagokat.
- Belőle fejlődik az új növény. Tápanyagot raktároz, amire szükség van az első gyökér, szár, levél létrehozásához.
- A növény ennek segítségével szaporodik. Van, amelyik színével és a benne termelődő nektár segítségével vonzza a rovarokat. A nektárt szívogató rovar egyúttal be is porozza. Van olyan, amelyet a szél poroz be.
- Tartja a növényt, összeköti a gyökereket a növény többi részével. Benne szállítódik a víz, a tápanyag és a táplálék.
- Védi a magot, és segít a magok terjesztésében.
- Táplálékot készít. A növény ezen keresztül lélegzik és párologtat. A táplálék innen szállítódik a többi szervhez.

7. Nevezd meg a képen látható állatot, és írd a nyilak mellé a testrészeinek nevét! **4pont/**

A madár neve:



Összesen 35 pont/