

3. osztályos témazáró dolgozat II.

“A”

1. Adj öt jó tanácsot, hogyan takarékoskodhatunk az energiával!

5pont/

1.....

2.....


3.....

4.....


5.....

2. Sorolj fel három-három hulladékot, amit ezekbe a tárolókba dobnál!


9pont/



papír



műanyag



fém

3. Írd a mágnesek alá, hogy vonzzák vagy taszítják-e egymást!

4pont/



.....




.....



.....

4. Karikázd be a keretben lévő tárgyak közül azokat, amelyeket vonz a mágnes!

12pont/



5. Egészítsd ki a hiányos szöveget!

8pont/

A víznek három halmazállapota van:,

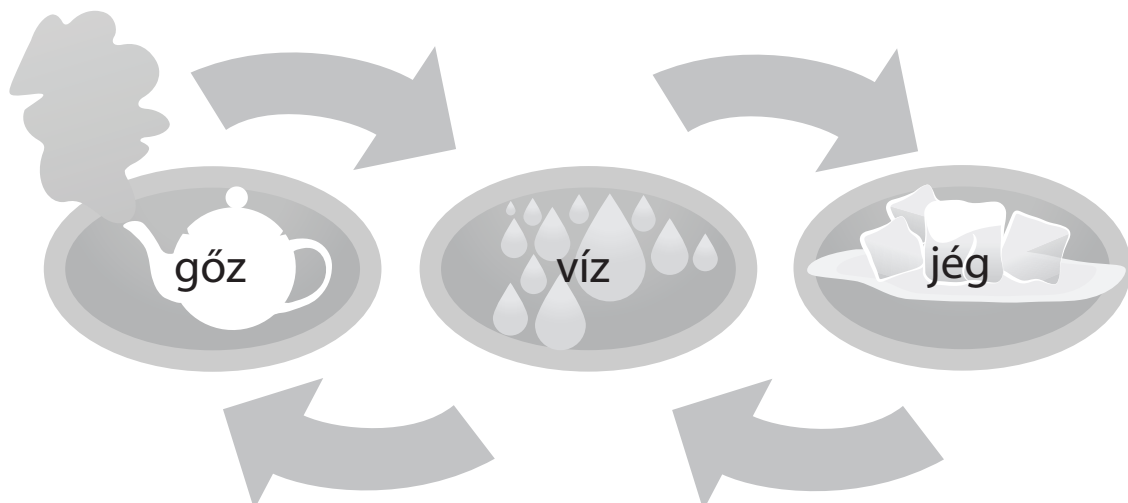
.....,

A víz°C-on fagy meg, és°C-on forr.

..... során két anyag részecskéi összekeverednek egymással. Az így keletkezett oldat folyékony összetevőjét nevezük. Azt az anyagot, amit feloldunk benne,..... nevezük.

6. Írd a nyilakra a halmazállapot változásokat!

4pont/



Összesen 42 pont/