

# 3. osztályos témazáró dolgozat II.

“B”


**1. Adj öt jó tanácsot, milyen taktikákkal védhetjük meg a környezetünket!**

5pont/


- 1.....
- 2.....
- 3.....
- 4.....
- 5.....

**2. Sorolj fel három-három hulladékot, amit ezekbe a tárolókba dobnál!**


9pont/



**papír**



**műanyag**



**fém**

**3. Írd a mágnesek alá, hogy vonzzák vagy taszítják-e egymást!**

4pont/



.....




.....



.....

**4. Karikázd be a keretben lévő tárgyak közül azokat, amelyeket vonz a mágnes!**

**12pont/**



**5. Egészítsd ki a hiányos szöveget!**

**8pont/**

A víznek három halmazállapota van: .....,

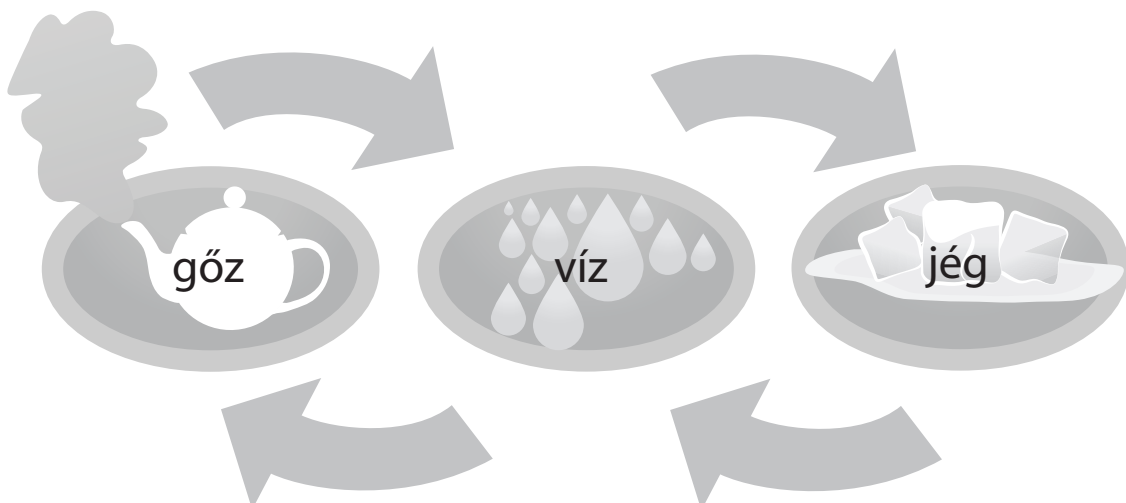
....., .....

A víz .....°C-on fagy meg, és .....°C-on forr.

..... során két anyag részecskéi összekeverednek egymással. Az így keletkezett oldat folyékony összetevőjét ..... nevezük. Azt az anyagot, amit feloldunk benne,..... nevezük.

**6. Írd a nyilakra a halmazállapot változásokat!**

**4pont/**



**Összesen 42 pont/**