


Témazáró dolgozat

Tájékozódás az iskolában és környékén

1.

Rajzolj az irányoknak megfelelően!


- a fától balra egy házat
- a fától jobbra egy hintát
- a fa alá egy széket
- a ház fölé egy madarat
- a ház elé egy kutyát



5 pont

2.

Írd a vonalra az égtájak nevét!




4 pont

3

Milyen felszíni formákat, vizeket ismersz fel a képen? Írd a számokat a megfelelő helyre!



- ① síkság ⑤ forrás
- ② domb ⑥ patak
- ③ hegy ⑦ tó
- ④ völgy



7 pont

4.

Melyik helyes, melyik nem?
Húzd át pirossal, ami nem helyes, azaz veszélyes viselkedés!



6 pont

5.

Írd le, hogyan takarékoskodszt a vízzel, az energiával! A képek segítenek.








4 pont

6.

Válogasd szét a szemetet! Húzd a megfelelő helyre!



13 pont

összesen: 39 pont