



Témazáró dolgozat

Anyagok körülöttünk

1.

Kösd össze a rajzokat a hozzájuk tartozó mennyiségekkel!



1 kg

1 l

5 dl

20 dkg

4 pont

2.

Mivel méred, mi a mértékegysége? Írd a szavak előtti számot a megfelelő helyre!

1.perc, 2. méter, 3. óra, 4. kilogramm, 5.liter, 6. deciméter, 7. dekagramm, 8. deciliter, 9. mérőedény, 10. vonalzó, 11. mérleg, 12. óra

idő

tömeg

hosszúság

űrtartalom

12 pont

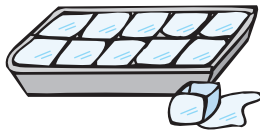
3.

Az élettelen dolgokat halmazállapotuk szerint 3 csoportba soroljuk. Írd be a keretekbe a csoportok nevét! Mindegyikre írd két-két példát!

9 pont

4.

Egy anyag halmazállapota meg is változhat. Írd le a víz változását a képek segítségével! Nevezd meg az adott halmazállapotot is!







6 pont

5.

Kösd össze az összetartozókat!

légneműből folyékony

szilárdból folyékony

fagyás

párolgás

lecsapódás

olvadás

folyékonyból légnemű

folyékonyból szilárd

8 pont

6.

Mi oldódik a vízben? Karikázd be!

cukor

konyhasó

olaj

homok

citromlé

ecet

kő



Kösd a bekarikázott anyag nevét annak az ételnek vagy italnak a képéhez, aminek elkészítéséhez használhatjuk!

4+2 pont

összesen: 45 pont