

A négy



1. Mesélj a képről!
Számlálj! Miből van 4 a képen?
Miből van 4-nél kevesebb? Miből van 4-nél több?

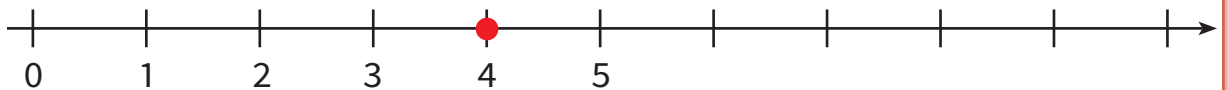


4




A négyes szám olyan épp,
mint egy fordított támlás szék.
Lábacskája égnek mered,
szegényke már fáradt lehet.

Osvát Erzsébet




2. Számlálj! Miből van pontosan 4? Színezd ki őket!





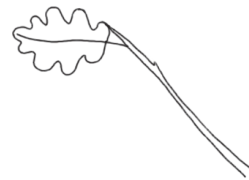
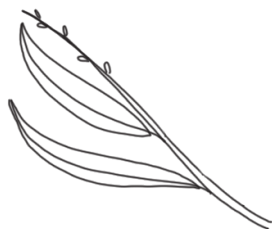

1. Írd át többször a számjegyeket!
Folytasd a 4 írását!



2. Hány gombát látsz a képeken? Írd az alattuk lévő keretekbe!

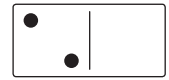
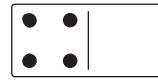
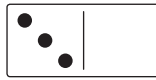
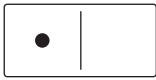


3. Minden ágon 4 levél legyen! Egészítsd ki a rajzokat!





1. Kösd a dominókat a számegyenes megfelelő pontjához!



Karikázd be azt a dominót, amelyiken a legtöbb pötty van!



2. Melyik több? Melyik kevesebb?



$$2 < \square$$



$$\square \square \square$$



$$\square \square \square$$



3. Melyik mókusnak hány szem mogyorója van? Rajzolj! Pótold a hiányzó számokat a rajz alapján!



$$3 < 1 \square$$



$$4 > 1 \square$$



4. Pótold a hiányzó számokat! Hasonlítsátok össze a megoldásaitokat!

$$0 < \square$$

$$2 < \square$$

$$3 > \square$$

$$4 > \square$$

$$3 < \square$$

$$4 = \square$$






1. Pótold a számokat a képek alapján!




	3	
1		2




		2









2. Pótold a hiányzó számokat! Színezd ki a leveleket a számoknak megfelelően!



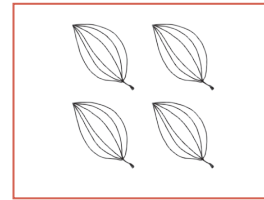
	4	
1		3



	4	
		2



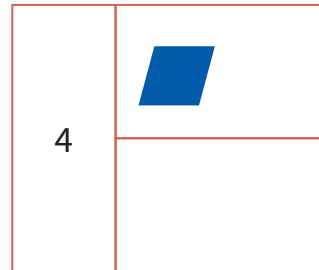
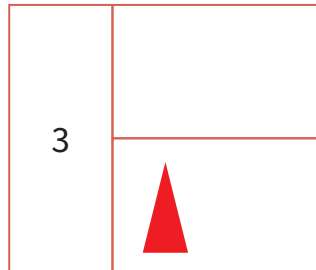
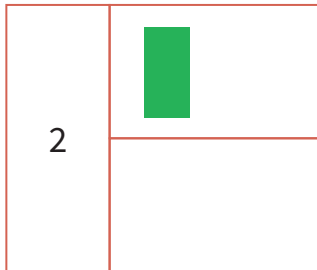
1		



		0



3. Egészítsd ki a rajzokat!



4. Színezd ki a korongokat a jeleknek megfelelően!

