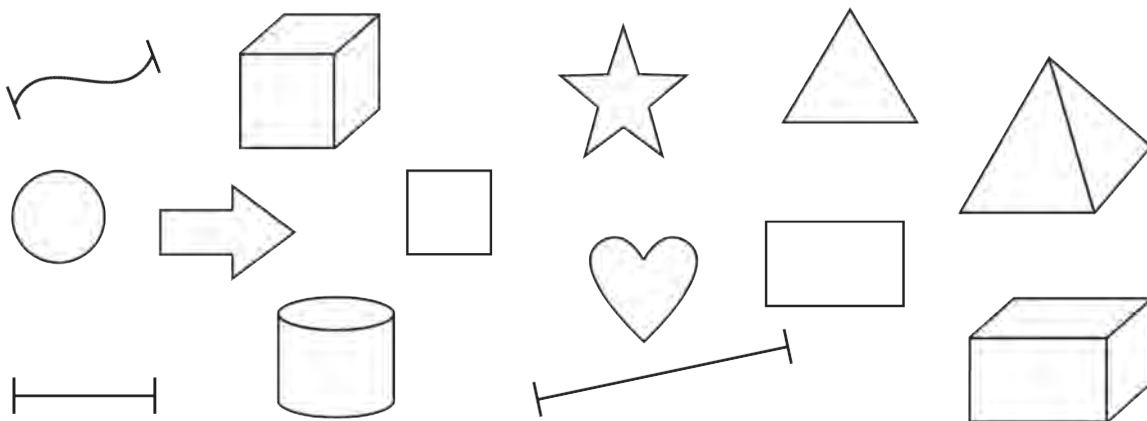


Vonalak, síkidomok, testek



1. Hogyan csoportosítanád a következő formákat? Mondd el!

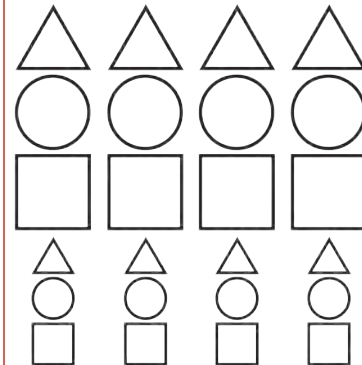
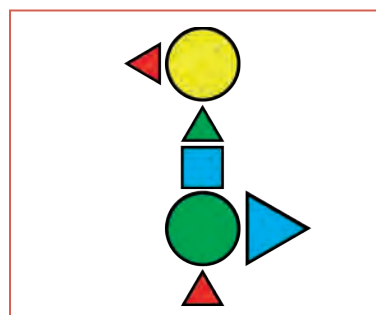
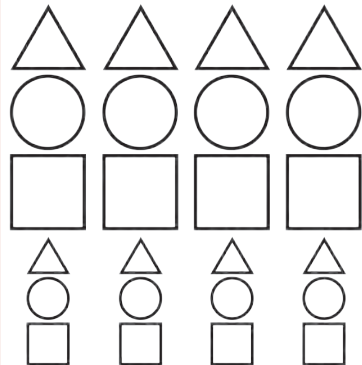

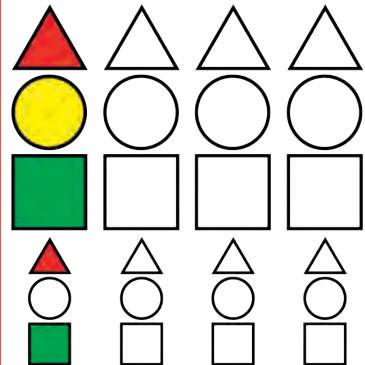
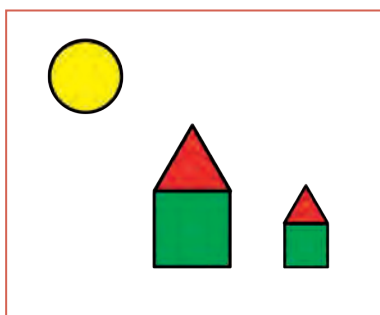


- Alkoss 3 csoportot a fenti formákból! Karikázd be azonos színnel azokat, amelyeket egy csoportba tennél!
- Hogyan neveznéd el a csoportokat? Mondd el!



2. Dolgozzatok párban! Építsétek meg a következő ábrákat!

- Mely logikai lapokat használtátok fel az ábra megépítéséhez? Színezd ki ezeket a megfelelő színnel a példa alapján!



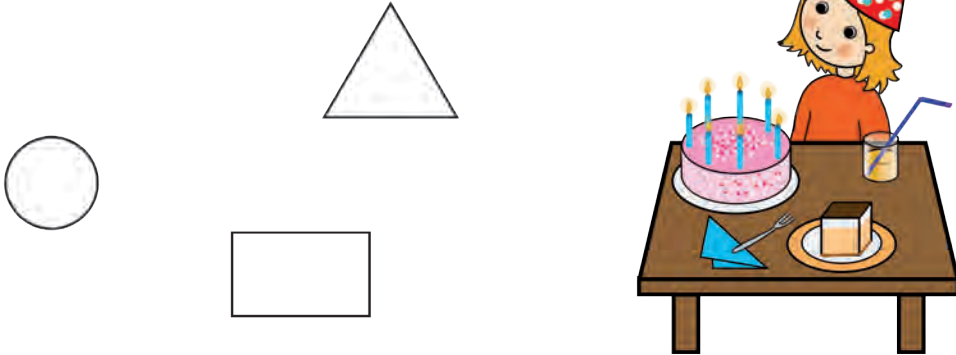
- Készíts érdekes ábrákat a logikai lapokból!



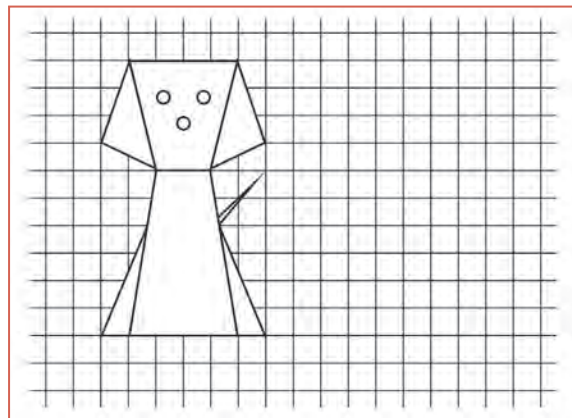
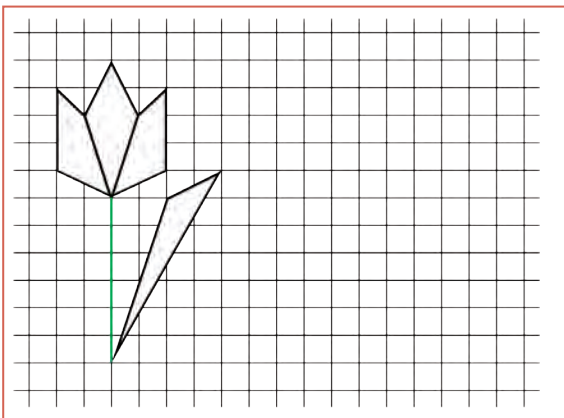


1. Figyeld meg a képet!

- a) Sorold fel, milyen tárgyak vannak a képen!
- b) Megbújtak a képen a következő síkidomok is. Hol lehetnek? Ha megtaláltad, kösd össze!




2. Másold le az ábrákat! Színezd a rajzokon azonos színnel az ugyanolyan alakú síkidomokat!



3. Számláld meg, hány háromszögből áll egy hajó!

Színezd ki a hajókat alkotó háromszögeket a megadott színekkel a jelek szerint! Keress többféle megoldást!



Játék a tükörrel



1. Beszélgesetek a képről!

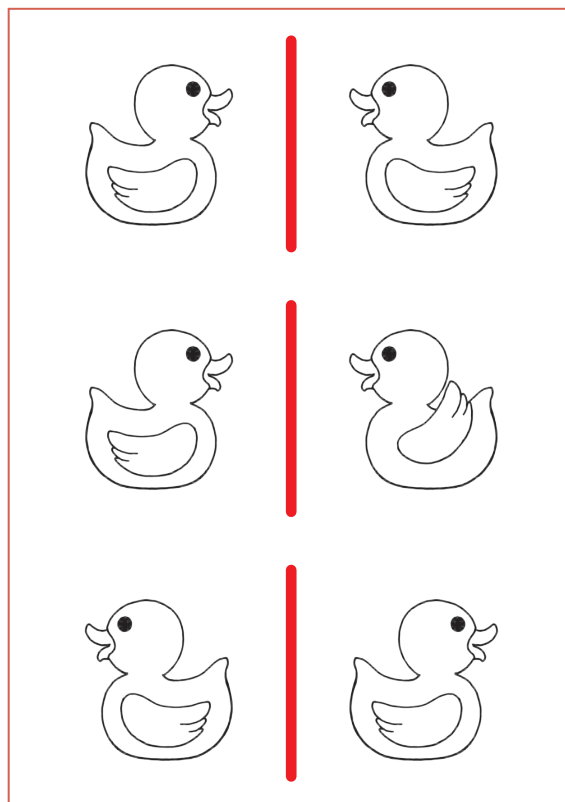
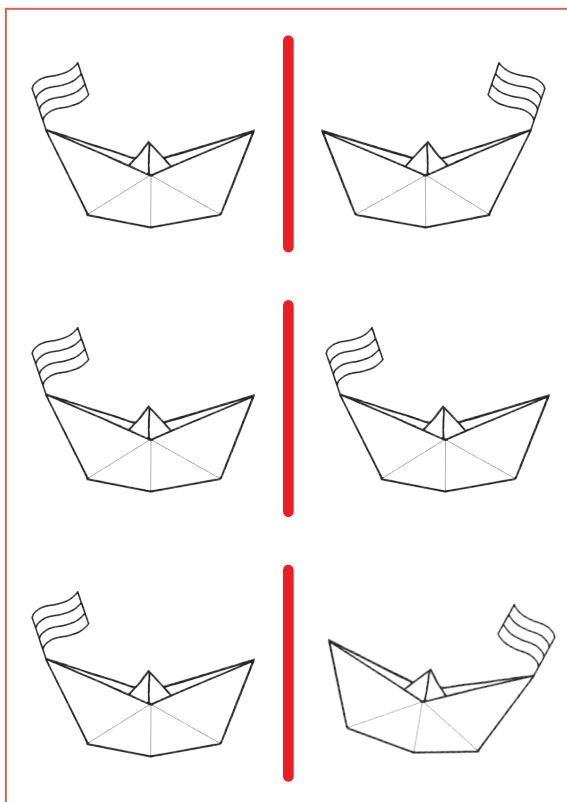
a) Soroljátok fel, minek látható a tükörképe a rajzon!



b) Te hol láttad már a tükörképedet? Mondj néhány példát!

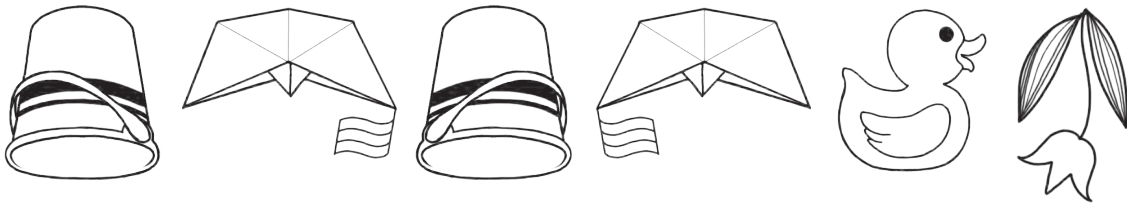
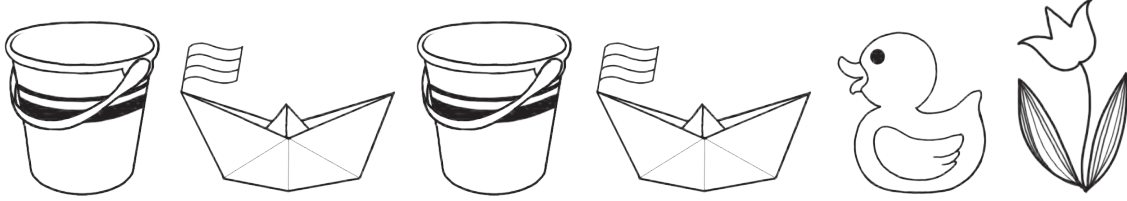


2. Tedd a tükrödet a piros vonalra! Színezd ki azokat az ábrákat, amelyek egymás tükörképei!

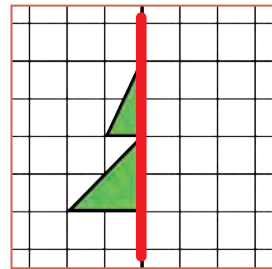
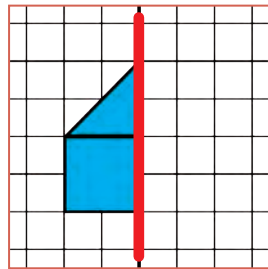
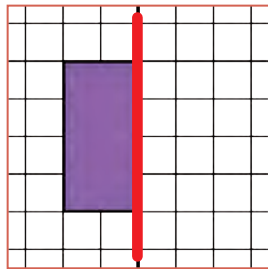
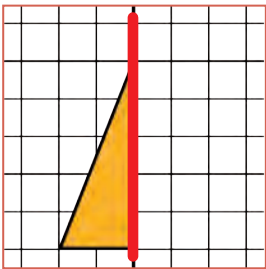




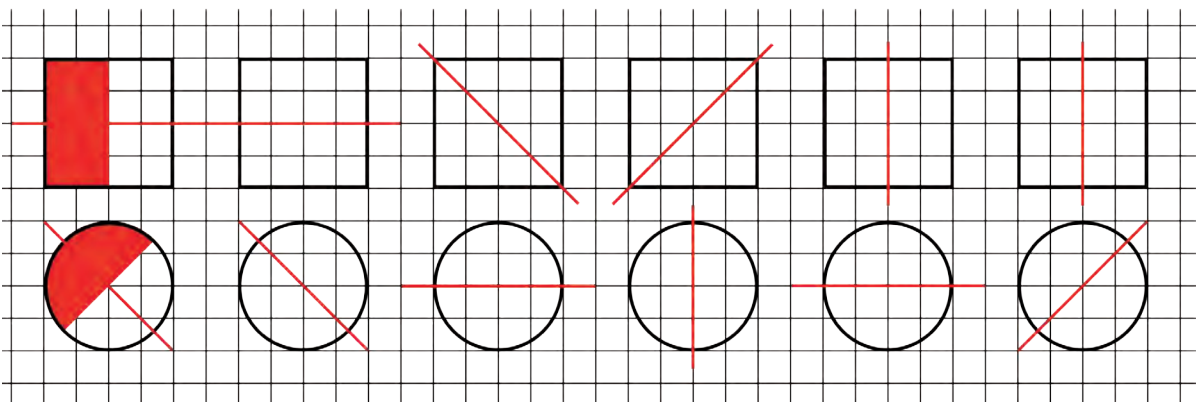
1. Tedd a tükröd a piros vonalra! Karikázd be azokat a rajzokat, amelyek nem tükörképei egymásnak! Jelöld pirossal az eltéréseket!



2. Helyezd a tükröd a piros vonalra! Rajzold le, amit a tükörben látsz!



3. Színezd ki többféleképpen a síkidomokat úgy, hogy ha a piros vonalra helyezed a tükröd, ugyanazt lásd!



Kitekintő




1. Számlálj! Hány gyerek van a sátrakban, ha mindegyikben ugyanannyian vakációznak?











2. Hány forint van egy-egy sorban? Írd le!



= 10 Ft



= 20 Ft



= Ft



= Ft



= Ft



= Ft



= Ft



= Ft



= Ft



= Ft

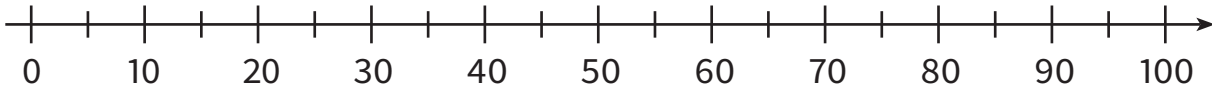


1. Kösd a számkártyákat és a képeket a számegyenes megfelelő pontjához!

60



75



40



90



2. Számold meg az ábécé betűit 1-től 44-ig!

a	á	b	c	cs	d	dz	dzs
e	é	f	g	gy	h	i	í
j	k	l	ly	m	n	ny	o
ó	ö	ő	p	q	r	s	sz
t	ty	u	ú	ü	ű	v	w
x	y	z	zs				



Milyen betű szerepel a megadott számoknál? Írd le! Olvasd össze őket!

17. 25. 39. 1. 18. 2. 4. 15. 25. 33.
