



A négy




1. Számlálj! Hány állat van a képen? Jegyezd le számjeggyel!











2. Számlálj! Miből van több? Miből van kevesebb? Pótold a hiányzó számokat és jeleket (<, >, =)!



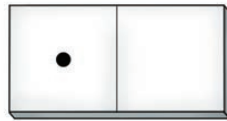











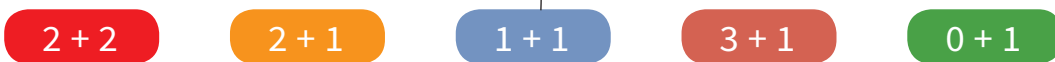
3. Hasonlítsd össze a dominókat! A nyíl a kevesebb felé mutasson!




4. Kösd a képeket a számegyenes megfelelő pontjához!




1. Kösd össze az ugyanannyit!




2. Színezz a bontott alak szerint!




1 + 3



3 + 1



0 + 4



2 + 2

3. Írd be a hiányzó számokat!

0 < 1 □

4 > 1 □

1 < 2 □

3 > 1 □


2 < 2 □

4 > 3 □

0 < 2 □




4 > 4 □

4. Színezd ki a kakukktojást! Indokold a választásodat!

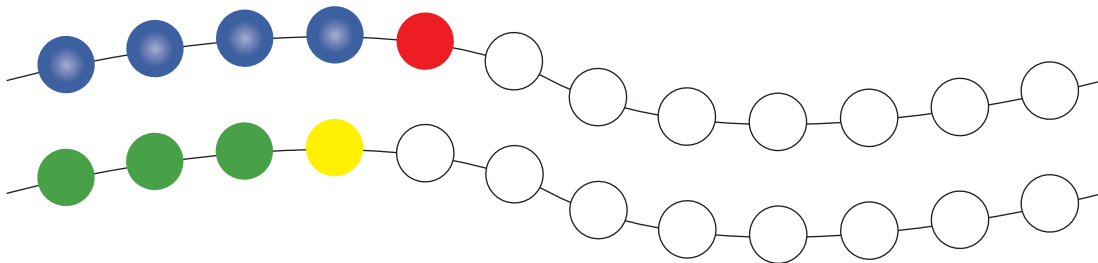




1. Egészítsd ki a rajzokat úgy, hogy a kép mindkét oldalán ugyanannyi dolog legyen!



2. Folytasd a gyöngysor színezését!




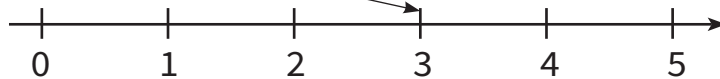
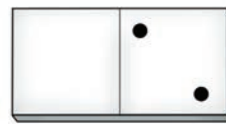


3. Folytasd a számok írását a felismert szabály alapján!



4. Rajzolj annyi pöttyöt, ahány gomba van a kosárban! Melyikben van több? Tedd ki közéjük a megfelelő jelet (<, >, =)!



1. Számlálj! Hány pötty van összesen a dominó két oldalán? Kösd a számegyenes megfelelő pontjához a dominókat!



2. Melyik szám bújt el a képen? Ha megtaláltad, írd le a kép alá!









3. a) Melyik állatnak hány lába van? A néglábú állatokat kösd a 4-hez, a kétlábúakat a 2-höz!



2

4



b) Színezd ki a néglábú állatokat!