


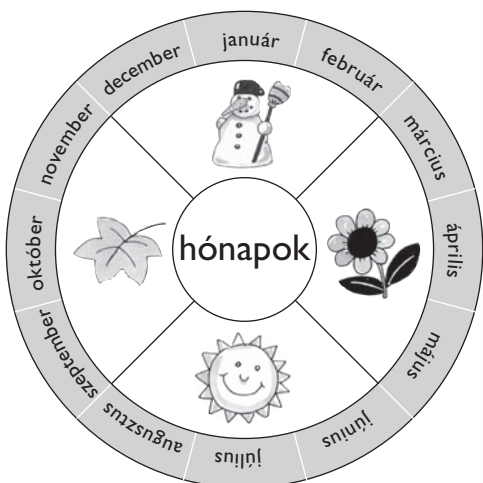
Ismerkedés a naptárral

április						
	1	2	3	4	5	6
Hétfő	Kedd	Szerda	Csütörtök	Péntek	Szombat	Vasárnap

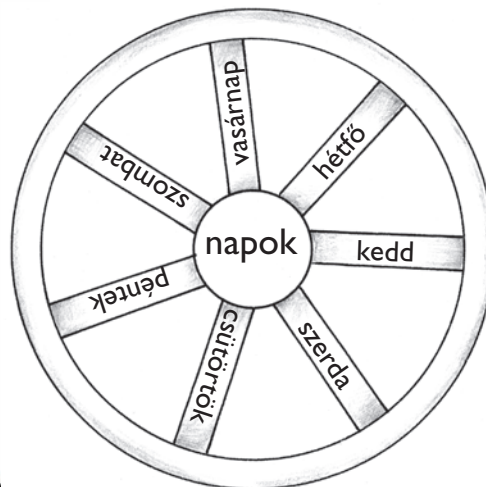
ÁPRILIS



Hétfő	Kedd	Szerda	Csütörtök	Péntek	Szombat	Vasárnap
	1	2	3	4	5	6
7	8	9	10	11	12	13
14	15	16	17	18	19	20
21	22	23	24	25	26	27
28	29	30				



1 év = 12 hónap



1 hét = 7 nap

1. Segít a naptár!

- Melyik hónapban vagyunk?
- Melyik hónapban születted?
- Melyik hónapban kezdődött a tanév?
- Melyik hónapban fejeződik be?

- Hány hónap telt el a tanévkezdés óta? Több, mint hónap.
- Hány hónap van még a tanév befejezéséig? Kevesebb, mint hónap.

1. Összekeveredtek a hónapok! Rendezd őket sorba! Írd a megfelelő sorszámot a hónapok neve fölé!

	1.				
szeptember	január	december	július	november	május
március	október	február	június	április	augusztus

2. Mely hónapokból állnak az évszakok? Írd az évszakok alá!

Tavasz	Nyár	Ősz	Tél
<input type="text"/>	<input type="text"/>	<input type="text"/>	<input type="text"/>
<input type="text"/>	<input type="text"/>	<input type="text"/>	<input type="text"/>
<input type="text"/>	<input type="text"/>	<input type="text"/>	<input type="text"/>

3. Nézd meg a naptárodban, hogy hány napból állnak a hónapok? Írd a hónapok alá!

január	február	március	április	május	június
<input type="text"/>	<input type="text"/>	<input type="text"/>	<input type="text"/>	<input type="text"/>	<input type="text"/>
július	augusztus	szeptember	október	november	december
<input type="text"/>	<input type="text"/>	<input type="text"/>	<input type="text"/>	<input type="text"/>	<input type="text"/>

4. Anna március 5-én, Gábor március 11-én, Marci március 19-én született. Fejezd ki kivonással, hogy hány nap telik el

a) Anna és Gábor születésnapja között? = nap telik el.

b) Gábor és Marci születésnapja között? = nap telik el.

c) Anna és Marci születésnapja között? = nap telik el.

Számításaid naptár segítségével ellenőrizd!

d) Milyen összefüggés van a 3 eredmény között?

1. Egészítsd ki a hiányos mondatokat! Milyen nap van, volt, lesz?

Ma _____ van. Tegnap _____ volt.
 Holnap _____ lesz. Tegnapelőtt _____ volt.
 Holnapután _____ lesz. 3 nap múlva _____ lesz.
 5 nappal ezelőtt _____ volt. 1 hét múlva _____ lesz.
 2 héttel ezelőtt _____ volt. 13 nap múlva _____ lesz.
 15 nappal ezelőtt _____ volt. Húsvét hétfőn _____ lesz.

2. Kösd össze a megfelelő időtartamokat!

április						
Hétfő	Kedd	Szerda	Csütörtök	Péntek	Szombat	Vasárnap

1 hét

2 hét

14 nap

3 hét

1 hónap

21 nap

4–5 hét

2 hónap


1 év

7 nap

8–9 hét

12 hónap

ÁPRILIS




Hétfő	Kedd	Szerda	Csütörtök	Péntek	Szombat	Vasárnap
	1	2	3	4	5	6
7	8	9	10	11	12	13
14	15	16	17	18	19	20
21	22	23	24	25	26	27
28	29	30				

3. Mi a szabály? Folytasd, ha rájöttél! Mondd is el!

Hétfő, Szerda, Kedd, Csütörtök _____

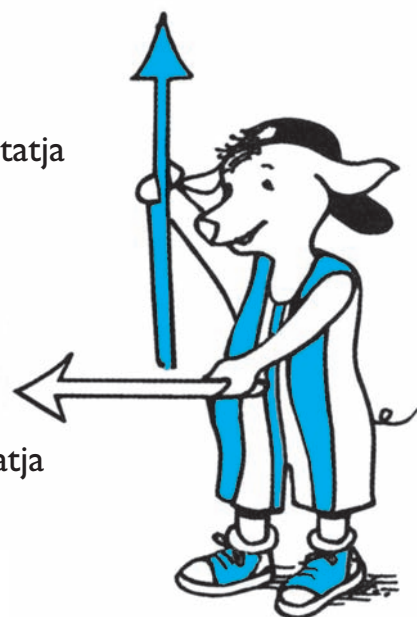
4. Zoli kétszer egy héten zongoraóra jár. Melyik 2 napon járhat? Színezéssel jeöld!

H	H	H	H	H	H	H	H	H	H
K	K	K	K	K	K	K	K	K	K
Sze	Sze	Sze	Sze	Sze	Sze	Sze	Sze	Sze	Sze
Cs	Cs	Cs	Cs	Cs	Cs	Cs	Cs	Cs	Cs
P	P	P	P	P	P	P	P	P	P



a nagymutató
a perceket mutatja

a kismutató
az órákat mutatja



Egész órákor a nagymutató a 12-n áll

1. Mit mutatnak az órák?




óra




óra



óra



óra



óra



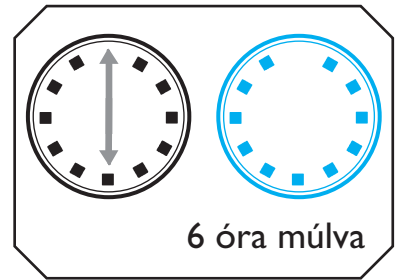
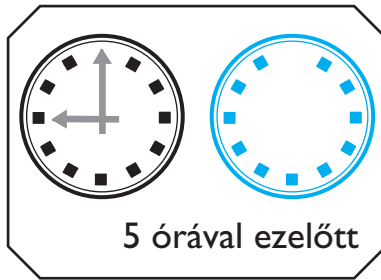
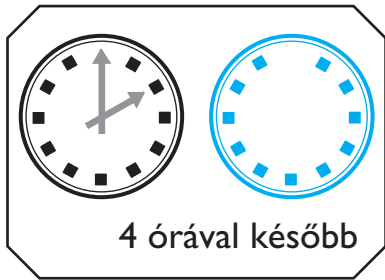
óra

2. Állítsd be a játékorádat az időpontnak megfelelően!

- 8 órákor kezdődik a tanítás.
- 10 órákor kezdődik a 3. tanítási óra.
- 12-kor ebédelnek a napközisek.
- Délután 2 órákor kezdődik a napköziben a tanulás.
- A napközisek délután 4-kor mennek haza.



1. Rajzold be a mutatókat



2. Hány óránk van még a vonat indulásáig?

mostani idő (órában)	11	3	1	8	2	6	4	7
a vonat indul (órában)	12	6	9	11	5	6	10	12
ennyi óra van még indulásig								

3. Becsüld meg, hogy 1 napon belül mivel, mennyi időt töltesz körülbelül! Írj <, > vagy = jelet az üres négyzetekbe!



1 óra

2 óra

4 óra

10 óra

4. Melyik napszakban mit csinálsz?

a) Tedd igazá a hiányos mondatokat!

Reggel _____ órákor kelek.

A mosakodás, az öltözködés, a reggelizés és az iskolába menés körülbelül _____ órát vesz igénybe.

Dél előtt az iskolában _____ órát töltök el. _____ órákor megyek haza.

Délután körülbelül _____ órát játszom. Este _____ órákor szoktam vacsorázni.

Este _____ órákor fekszem le. Általában _____ órát szoktam aludni.

b) Karikázd be pirossal az időpontokat, kékkel az időtartamokat!



