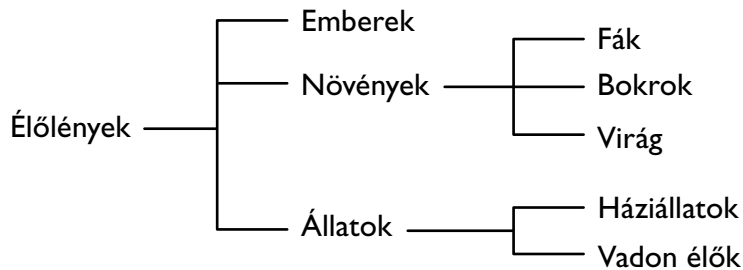




B Feladatlap



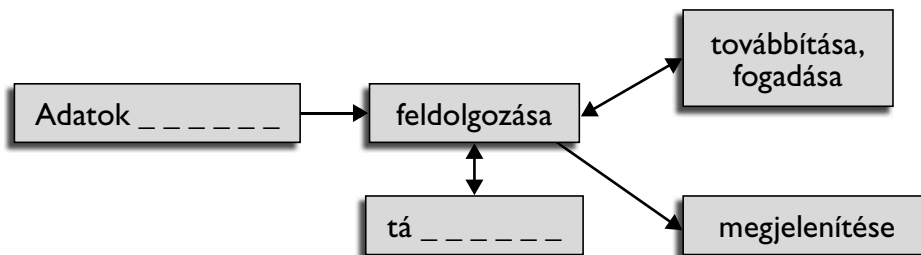
1. Készítsd el flopira vagy a vinciester kijelölt mappájába a következő mappa-szerkezetet!



9 pont



2. A számítógép feladatai közül kettő hiányzik. Pótolj ki ezeket!



2 pont



3. Válaszd ki, és írd a vonalra a kimeneti eszközöket!

monitor, vinciester, egér, dévédé, hangfal, mikrofon, nyomtató, cédé, billentyűzet

3 pont



4. Kösd össze a fogalmakat és a leírásukat!

hardver	A számítógépen futó programok összefoglaló neve.
ablak	A számítógépet felépítő eszközök összefoglaló neve.
szoftver	A számítógép működéséhez szükséges programrendszer.
operációs rendszer	A képernyő bekeretezett része.

4 pont



5. Nevezd meg a billentyűket!



3 pont

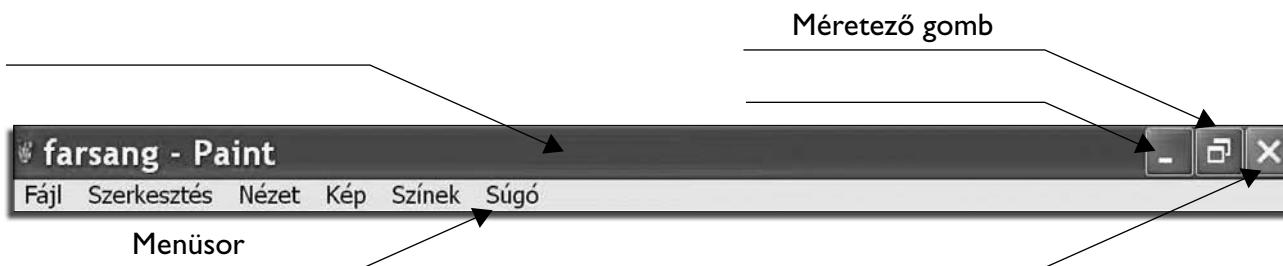


6. Húzd alá egyes vonallal a billentyűzet gombjait, karikázd be az egérműveleteket!

Space	vonszolás	monitor
funkcióbillentyűk	Ctrl	flopi
nyomtató	rámutatás	indítás (dupla klikk)

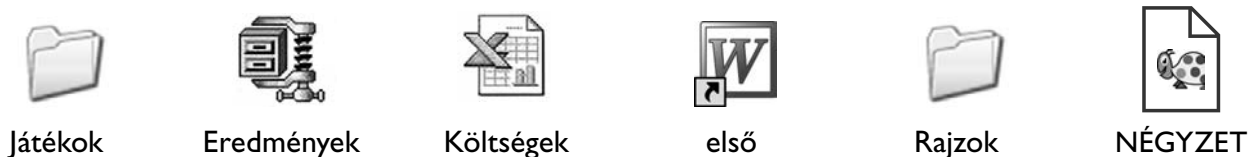
3 pont

7. Nevezd meg az ablak részeit!



3 pont

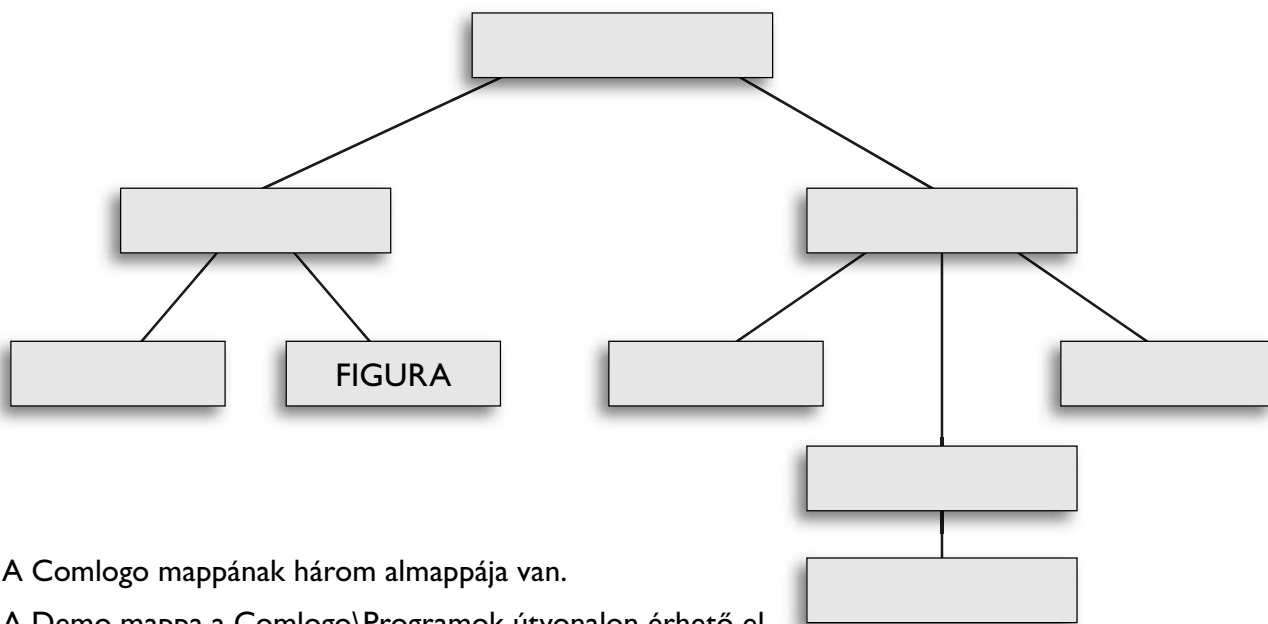
8. Karikázd be a mappákat jelképező ikonokat!



Írd le a fájlok nevét! _____

4 pont

9. Egészítsd ki az ábrát a mappák nevének beírásával úgy, hogy igazak legyenek a mappaszerkezetre az alábbi állítások! (Segítségképpen egy mappanevet már beírtunk!)



- A Comlogo mappának három almappája van.
- A Demo mappa a Comlogo\Programok útvonalon érhető el.
- A mappaszerkezet a flopin található.
- A Lapoda mappának két almappája van.
- A Help mappa a Lapoda mappából „nyílik”.
- A Játékok mappa a Comlogo almappája.
- A Figura mappa a Lapoda almappája.
- A Rajzfilm mappa a Comlogo almappája.

4 pont

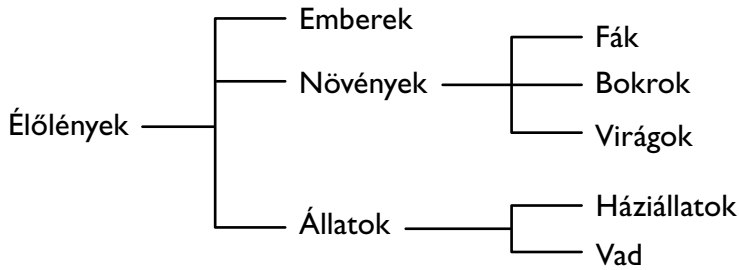
Összesen:

35 pont

C Feladatlap



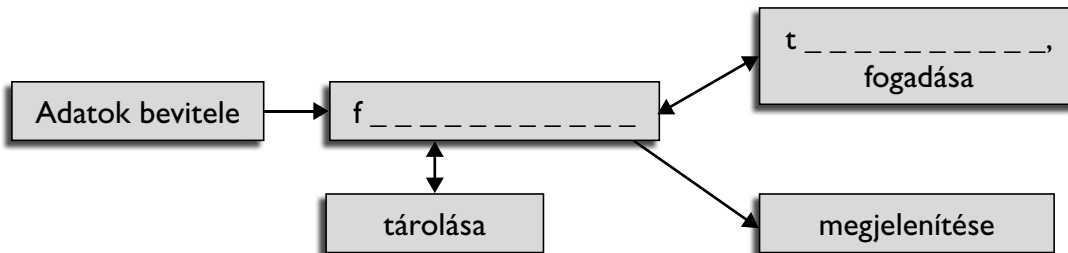
1. Készítsd el flopira vagy a vinciester kijelölt mappájába a következő mappa-szerkezetet!



9 pont



2. A számítógép feladatai közül kettő hiányzik. Pótolj ki ezeket!



2 pont



3. Válaszd ki, és írd a vonalra a be- és kimeneti eszközöket!

monitor, vinciester, egér, dévédé, hangfal, mikrofon, nyomtató, cédé, billentyűzet

3 pont



4. Kösd össze a fogalmakat és a leírásukat!

szoftver	A képernyő bekeretezett része.
hardver	A számítógépen futó programok összefoglaló neve.
ablak	A számítógép működéséhez szükséges programrendszer.
operációs rendszer	A számítógépet felépítő eszközök összefoglaló neve.

4 pont



5. Nevezd meg a billentyűket!



3 pont

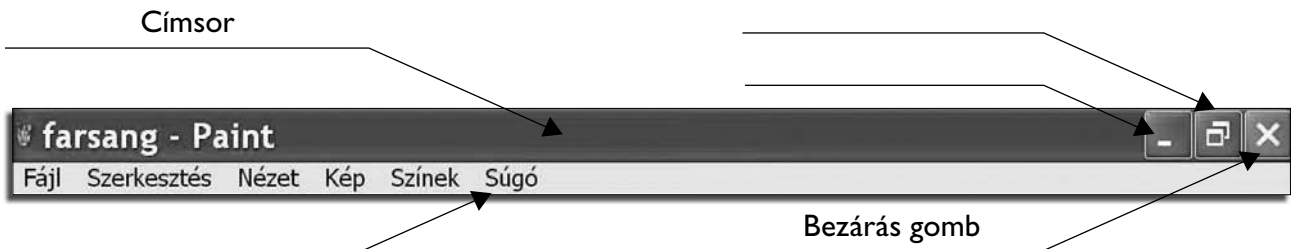


6. Húzd alá egyes vonallal az egérműveleteket, karikázd be a billentyűzet gombjait!

Space	vonszolás	rámutatás
indítás (dupla klikk)	Ctrl	cédé
nyomtató	funkcióbillentyűk	monitor

3 pont

7. Nevezd meg az ablak részeit!



3 pont

8. Karikázd be a fájlokat jelképező ikonokat!



Rajzok



Eredmények



Költségek



első



NÉGYZET

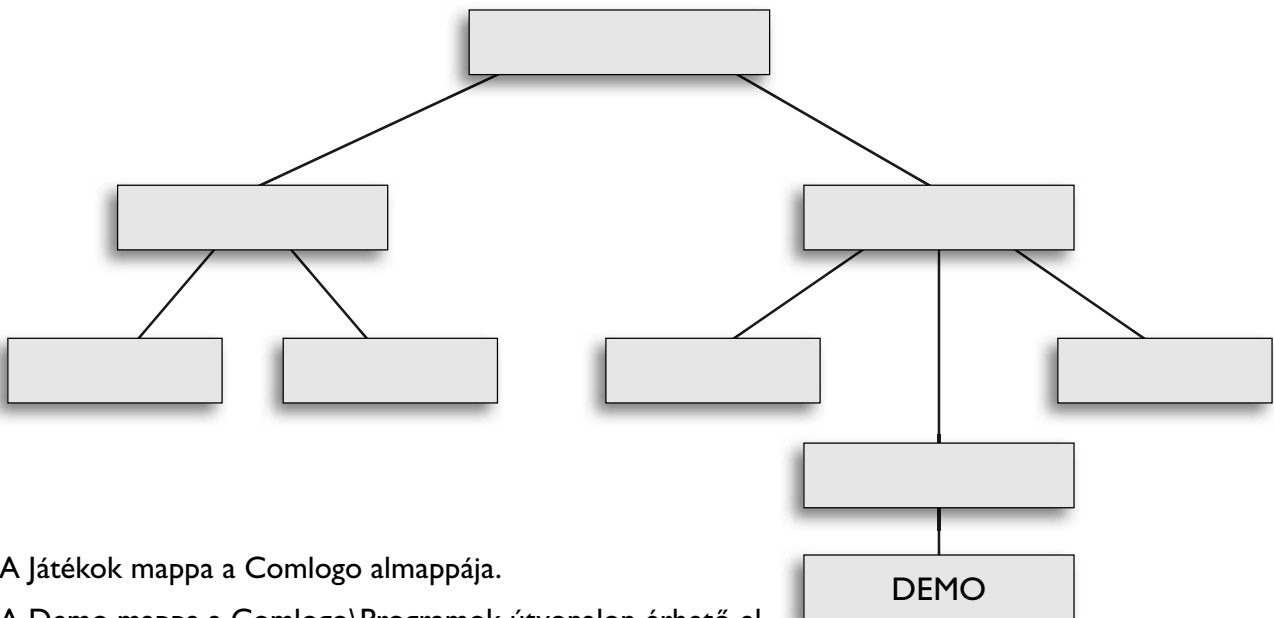


Játékok

Írd le a mappák nevét! _____

4 pont

9. Egészítsd ki az ábrát a mappák nevének beírásával úgy, hogy igazak legyenek a mappaszerkezetre az alábbi állítások! (Segítségképpen egy mappanevet már beírtunk!)



A Játékok mappa a Comlogo almappája.

A Demo mappa a Comlogo\Programok útvonalon érhető el.

A Lapoda mappának két almappája van.

A Help mappa a Lapoda mappából „nyílik”.

A Rajzfilm mappa a Comlogo almappája.

A Figura mappa a Lapoda almappája.

A mappaszerkezet a flopin található.

A Comlogo mappának három almappája van.

4 pont

Összesen:

35 pont