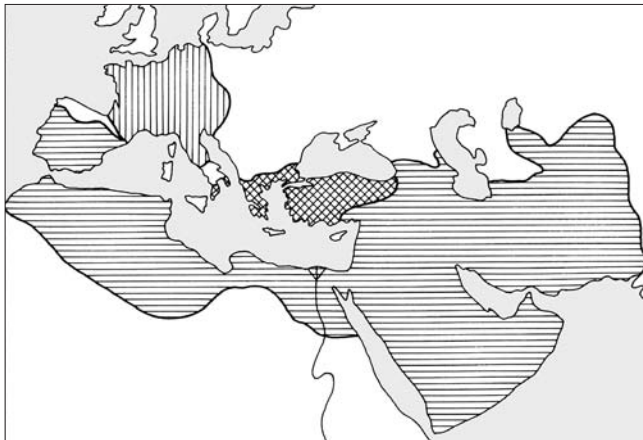


I. KÉPEK A KÖZÉPKORI EURÓPA ÉLETÉBŐL

I./A témazáró feladatlap



1. Készítsd el a térkép vázlat jelmagyarázatát!

- Frank Birodalom
- Bizánci Birodalom
- Arab Birodalom

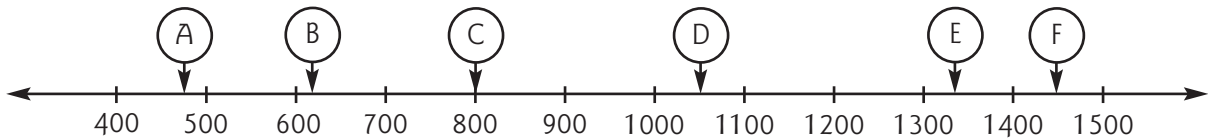
3
pont

2. Húzd alá azokat a fogalmakat, melyek a  jelzésű birodalomra illenek!

- | | | | | | |
|--------|-------------------|-----------|-------------|-------------|-------------|
| Aachen | nomád állattartás | Korán | földművelés | császár | Mekka |
| Bizánc | görög nyelv | pátriárka | kalifa | Justinianus | hűbéri lánc |


4
pont

3. Melyik betű jelzi az időszalagon?



3
pont

- a) Mohamed futása: b) az egyházszakadás: c) a százéves háború kezdete:



4. a) Készítsd el az üres körbe a kétnyomásos gazdálkodás magyarázó rajzát, feliratokkal!

b) Karikázd be, melyik ábra illik magyarázó rajzodhoz!

4
pont

3
pont

5. Sorold fel, milyen részekből állt az uradalom!

✂ 4. Készíts magyarázó szöveget az ábrához!

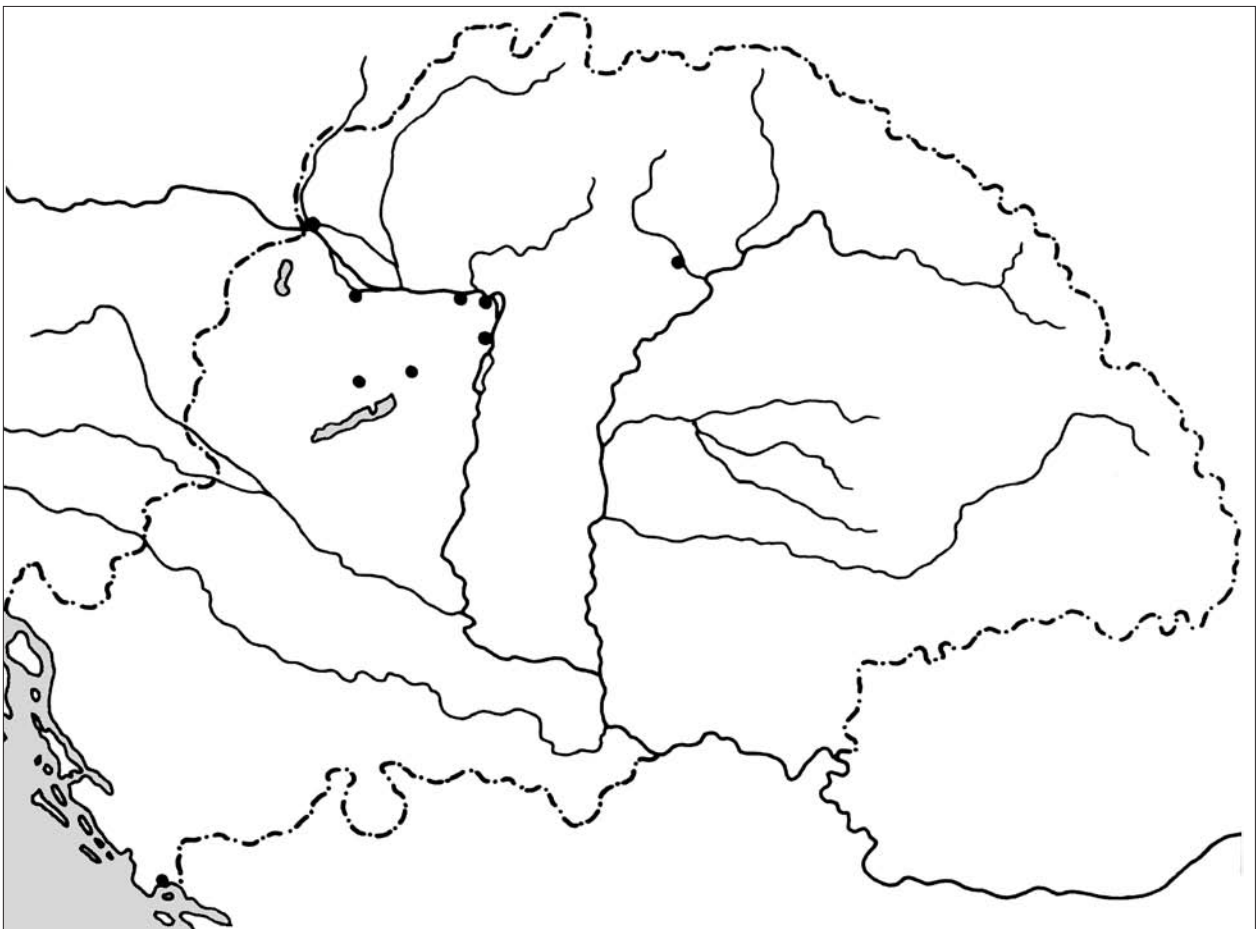


4	
pont	

5. a) Írd be a térképvázlat megfelelő helyére: Esztergom, Buda, Pozsony!

b) Rajzold be a tatár főserég Muhiig vezető útját!

c) Karikázd be I. István koronázási helyét!

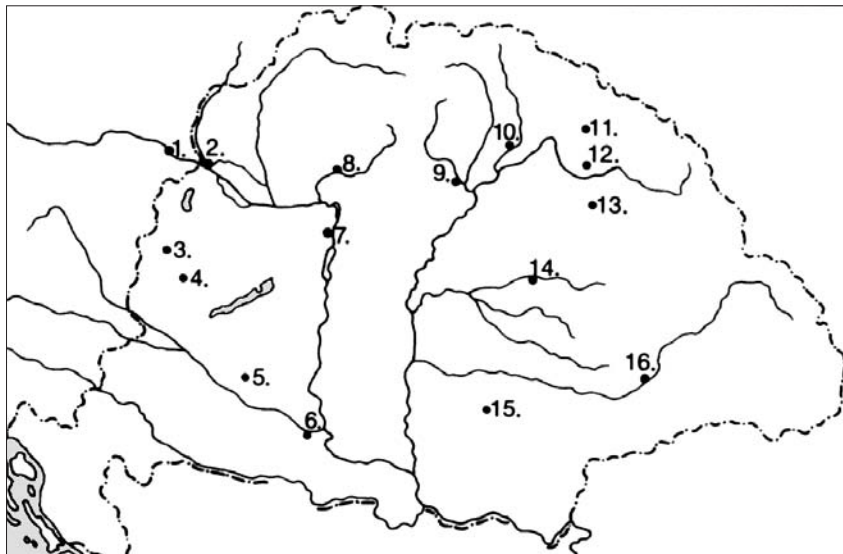


5	
pont	

V. MAGYARORSZÁG AZ ÚJKOR KEZDETÉN

V./A témazáró feladatlap

1. A térkép alapján töltsd ki a táblázatot!

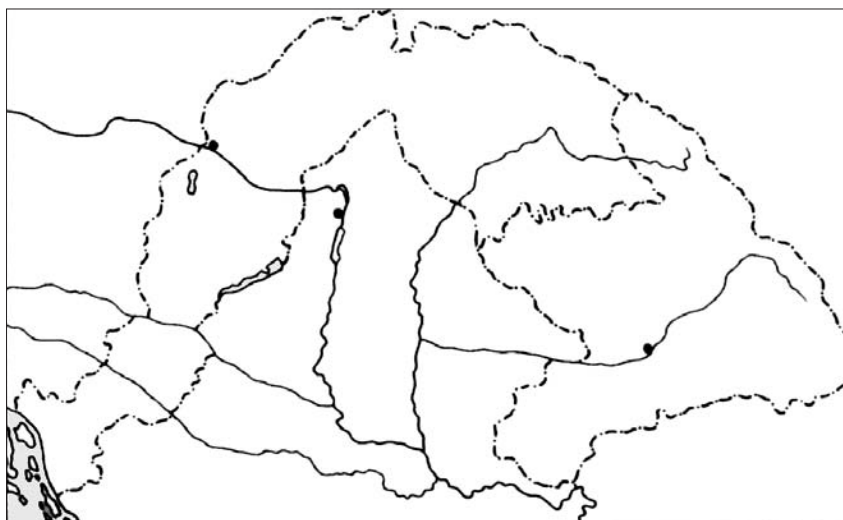


Szám	A vár neve	Kapitánya	Az ostrom ideje
3.			
5.			1566
8.		Szondi György	

7
pont

2. Írd rá a rajzos térképre

- az országrészek nevét!
- a „fővárosokat”!



c) Húzd alá a felsorolásból Habsburg Ferdinánd országrészének jellemzőit!

élén fejedelem áll

a nádor az uralkodó helyettese

elnéptelenedik

vallásszabadság

hatalmas mezővárosok

tatárok támadják a XVII. században

a jobbágyok robotja növekszik

szavaznak adóról, katonaállításról

gyermekadó

majorságok növelése

a belpolitikában önálló

Fráter György

10
pont