

# 1. tantárgypróba

A változat

## AFRIKA ÉS AUSZTRÁLIA

1. Határozd meg az Ausztrál Államszövetség fővárosának földrajzi helyzetét!

A főváros neve: .....

Földrajzi helyzete: ..... szélesség ..... fok

..... hosszúság..... fok

5	
---	--

**A következő feladatok megoldásához már nem használhatod az atlaszt!**

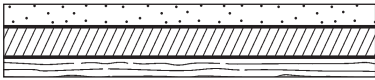
2. Írd a tájak, folyók számait a térképvázlat megfelelő helyeire!

1. Atlasz, 2. Kongó-medence, 3. Ausztrál-tábla, 4. Új-Guinea, 5. Zambézi



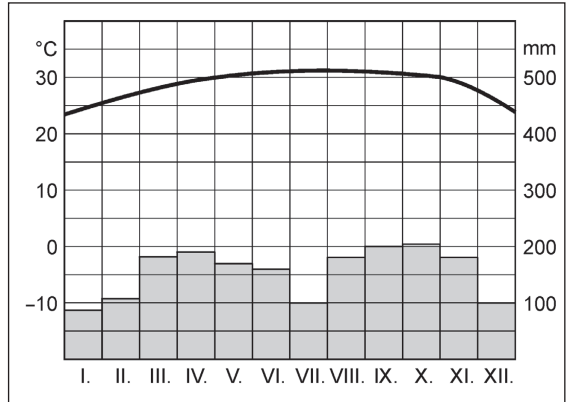
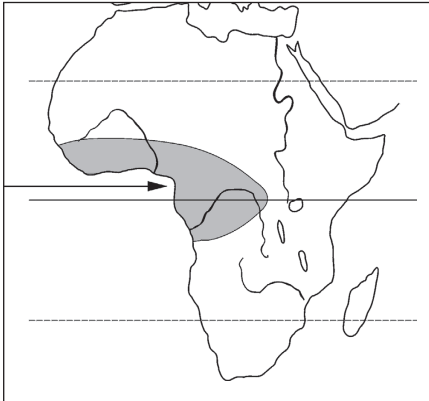
5	
---	--

3. A vízszintes kőzetretegekből álló terület neve: .....  
 Rajzolj ezekből a rétegekből töréses (vetődéses) formát!



2	
---	--

4. Jellemezd az ábrán jelölt táj éghajlatát az éghajlati diagram segítségével!



Éghajlati övezet: .....

Éghajlat: .....

Hőmérséklet: .....

Csapadék: .....

Hőingás: .....

Mi a táj természetes növényzete? .....

6	
---	--

5. Az előző feladat ábráján színezd ki a mediterrán éghajlat területét!

A táj természetes növényzete:.....

Nevezd meg a természetes növényzet két jellemző növényfaját!

.....

Milyen állatokat tenyésztenek? Nevezd meg legalább kettőt!

.....

6	
---	--

**6.** A trópusi mezőgazdaság gazdálkodási formái:

a) ..... b) .....

Jellemezd az ősbibb típusú mezőgazdasági formát az alábbi szempontok segítségével!

Ki é a föld? .....

Kinek az ellátására termelnek?.....

Hogyan művelik meg a földet? .....

Mit termesztenek?.....

Mely területeken jellemző ez a gazdálkodási mód? .....

7	
---	--

**7.** Nevezd meg három terméket Ausztráliából, melynek termelésében a világon az első között van!

.....

3	
---	--

**8.** Miért van szükség arra, hogy természetvédelmi területeket jelöljenek ki Afrikában?

.....

.....

Hol jelöltek ki ilyen területeket? .....

Milyen állatok élnek az afrikai természetvédelmi területeken? Nevezd meg legalább négyet!

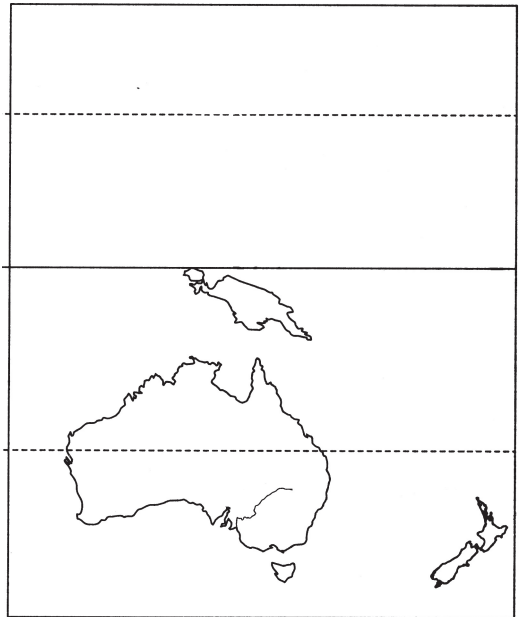
.....  
.....

6	
---	--

**Összes pont: 40**

### Szorgalmi feladat

Versenyezzetek! Ki tud több tájat, várost, országot megnevezni a térképvázlaton?



# 1. feladatlap

A változat

## AFRIKA ÉS AUSZTRÁLIA

1. Atlaszod segítségével határozd meg a nagy afrikai kikötő, Fokváros földrajzi helyzetét!

..... szélesség ..... fok ..... hosszúság ..... fok

4	
---	--

2. Állapítsd meg Fokváros és a Dél-afrikai Köztársaság fővárosának légvonalbeli távolságát!

A Dél-afrikai Köztársaság fővárosa: .....

A két város távolsága: .....

3	
---	--

3. Ausztrália hőmérsékleti és csapadéktérképéről olvasd le az alábbi adatokat!

Sydney januári középhőmérséklete: .....

Sydney júliusi középhőmérséklete: .....

Sydney évi csapadékmennyisége: .....

Keretezd be a nyári évszak hőmérsékleti adatát!

4	
---	--

**Tedd el az atlaszod, a további feladatokat már térkép nélkül kell megoldanod!**

4. Nevezd meg a kontinenseket határoló óceánokat! Írd a nevüket a térkép-vázlat pontosított vonalaira! Jelöld a térképre a Gibraltári-szorost! Állapítsd meg, mit jelölnek a számok! Írd a nevüket a pontosított vonalakra!



- ① ..... ② .....
- ③ ..... ④ .....

Írd az állítások utáni négyzetekbe a megfelelő táj számát!

Lepusztult röghegység

Felszínén nagy árkok és törésvonalak húzódnak, a vetődések mentén vulkánok keletkeznek

Fiatal lánchegység

Földünk legnagyobb sivataga

Írd a térkép-vázlat megfelelő helyére Szudán és Új-Zéland nevét!

Jelöld kezdőbetűvel a Kongót és a Murray folyót!

17	
----	--

5. Melyik éghajlati övezet kerül el a Ráktérítő és a Baktérítő között?

.....

Minek alapján különíthetünk el az övezet területén eltérő éghajlatokat?

..... és ..... alapján.

Az övezet jellemző szele: .....

A szél iránya: .....

5	
---	--

6. Milyen éghajlatok jellemzőek a következő tájakra? Mi a természetes növényzetük?

Töltsd ki a táblázatot!

A táj neve	Éghajlata	Természetes növényzete
Földközi-tenger partvidéke		
Szahara		
Szudán		
Kongó-medence		

8	
---	--

7. Hol és miért alakult ki az ún. „éhségövezet” Afrikában? Mi az oka a rendszeresen visszatérő éhínségnek Afrikában?

.....  
.....  
.....  
.....

Jelöld a térképvázlatban az éhínség által leginkább fenyegetett területeket!



5	
---	--

8. Mely országok Ausztrália legfontosabb kereskedelmi partnerei?

.....

Sorolj fel fő exportcikkei közül kettőt!

.....

4	
---	--

**Összes pont: 50**

### Szorgalmi feladat

Versenyezzetek! Ki tud több országot, várost megnevezni Afrika térképén?

