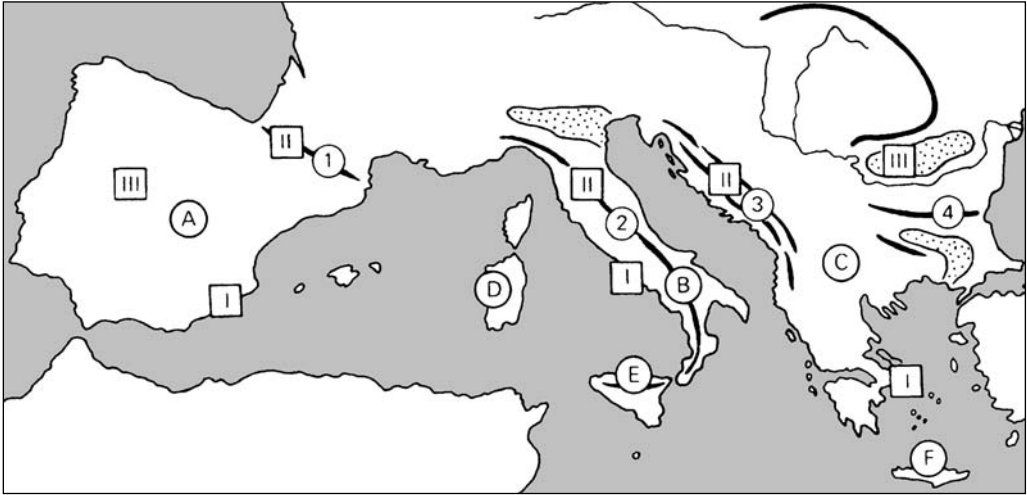


DÉL-EURÓPA

Fiatal hegységek – ragyogó napsütés

Dél Európa természeti viszonyai

1. Nevezd meg Dél-Európa legnagyobb félszigeteit és szigeteit!



- Ⓐ.....
- Ⓑ.....
- Ⓒ.....
- Ⓓ.....
- Ⓔ.....
- Ⓕ.....

2. Írd a térképészletbe a Dél-Európát határoló tengerek és óceán nevét!

3. Nevezd meg Dél-Európa hegységeit!

- ①.....
- ②.....
- ③.....
- ④.....

Jelöld piros csillaggal a működő vulkánokat!

4. Milyen éghajlat alakult ki a térkép-vázlatban római számokkal jelölt területeken? Töltsd ki a táblázatot!

	I éghajlat	II éghajlat	III éghajlat
A nyár			
A tél			
Melyik évszakban hull a legtöbb csapadék?			
Természetes növényzete			

5. A Pireneusi-félsziget országai:

Ⓐ Fővárosa:.....


Ⓑ Fővárosa:.....

6. Rajzolj a négyszögbe turzást és lagúnát!

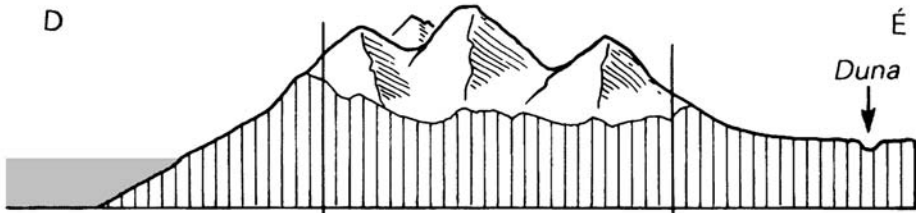
Melyik olasz város épült lagúnába?

.....

Keressd meg a térképeden!




7. A Dinári- és a Balkán-hegység éghajlatválasztó.



Éghajlat:

8. A Kotori-öböl (Dinári-hegység) kontinensünk legcsapadékosabb területe. A rajz segítségével magyarázd meg, miért!

.....



Melyik évszakban hull bőséges csapadék?



SPANYOLORSZÁG ÉS OLASZORSZÁG



1. Sorold fel a Pireneusi-félsziget öntözéses gazdálkodásának fő terményeit!

.....

Milyen mezőgazdasági termékek előállításában kiemelkedő a világon Spanyolország?

2. Hasonlítsd össze a Pó-síkság és Dél-Olaszország mezőgazdaságát!
Töltsd ki a táblázatot!

	Pó-síkság	Dél-Olaszország
Éghajlata	hatással	
A tél: A nyár: Mikor hull a csapadék?		
Mezőgazdasági üzemtípus:		
Termésátlagok:		
Termesztett növények:		
Tenyésztett állatok:		

Sorolj fel néhány mezőgazdasági terméket, amelyek termelésében
Olaszország a világelsők között van!

.....

.....

.....

3. Olaszország vaskohói a tengerparti kikötőkbe települtek.

Miért?.....

Színezd kékre a vaskohászat központjait! Írd a térképvázlatba a városok nevét!

4. Határold körül Olaszország legjelentősebb ipari körzetét!
Nevezd meg az olasz ipari háromszög városait! Írd melléjük jellemző iparágakat!



Város:

Iparágak:

- 1.
- 2.
- 3.

Olaszország fővárosa:.....

Jelöld a városokat a térképvázlatban!

5. Híres olasz autómárkák:.....
.....
.....