

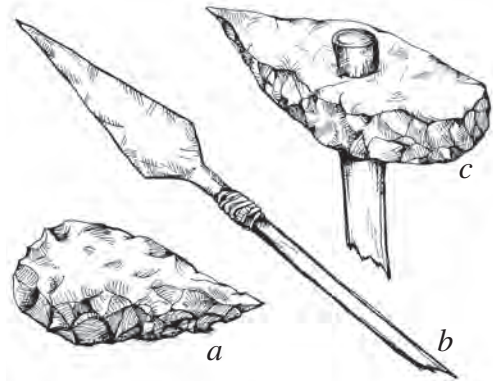
# I. AZ EMBERISÉG ŐSKORA. EGYIPTOM ÉS AZ ÓKORI KELET KULTÚRÁJA

I/A

## témazáró feladatlap

1. A jobb oldali rajzok közül melyik a szakóca?

Írd ide a betűjelét! \_\_\_\_\_



1 pont

2. Hogyan nevezik azt a mesterséget, amelynek művelői agyagedényt készítenek, és azt kiégetik?

2 pont

3. A történész milyen forrásokból ismeri meg a múltat? Karikázd be a helyes állításokat!

- A) Régi fényképekből, filmekből.
- B) Történelemtankönyvekből.
- C) Az iskolai tanulmányaikból.
- D) Régmúlt korok ruháinak, fegyvereinek vizsgálatából.
- E) Régi, korabeli könyvekből.

3 pont

4. A következő rajzokon a történelmi források egyik csoportját látod. Melyiket?



Válasz: A(z) \_\_\_\_\_ forrásokat.

3 pont

5. a) A felsoroltak közül mi tartozik a régész szokásos szerszámai közé? Karikázd be a helyes válaszok betűjelét!

A) kefe

D) kapa

B) ecset

E) nagyharang

C) ásó

F) villáskulcs

4 pont

b) Melyik földrészen kerültek elő az első ősemberleletek? \_\_\_\_\_

6. Indokold meg pár mondatban, miért nevezik az ókori Egyiptomot „a Nílus ajándékának”!

---

---

---

---

---

---

---

---

---

---

---

5 pont

7. Az egyiptomi társadalom mely tagjaira vonatkoznak az alábbi meghatározások?

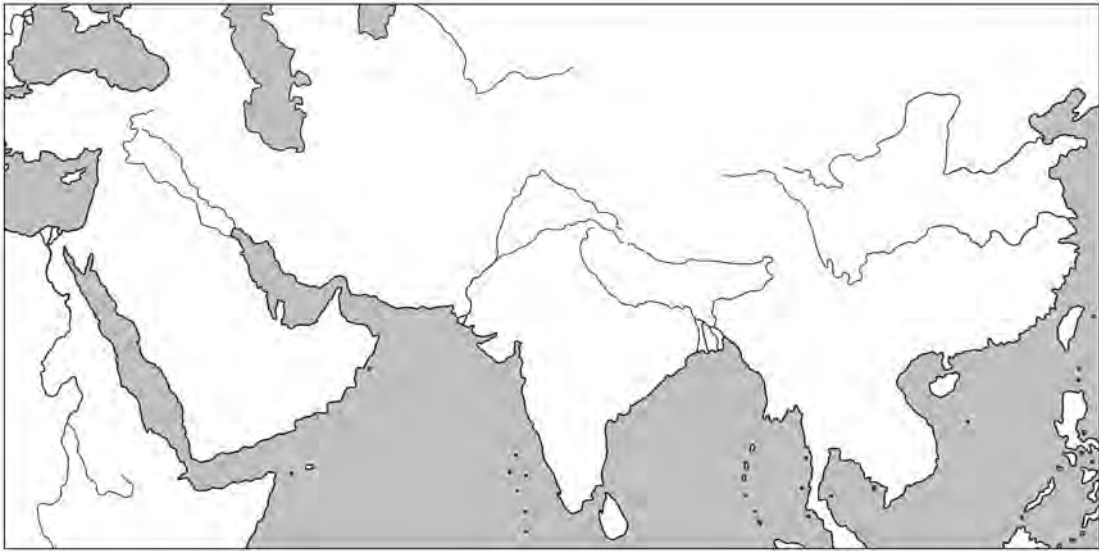
A) A földeken vetettek és arattak: \_\_\_\_\_

B) A Napisten fiának tartották: \_\_\_\_\_

C) Ők készítették a hivatalos iratokat: \_\_\_\_\_

3 pont

8. Jelöld a térképvázlaton Indiát **I** és Kínát **K** betűvel! Jelöld a térképen **1**-es számmal az Indus folyót!



3 pont

9. Miről van szó? Írd a meghatározás mögé!

Egyiptomban használt, egyszerű képecskékből álló írás. \_\_\_\_\_

3 pont

10. Melyik ókori keleti államra jellemzőek a következő fogalmak?

monszun, hindu vallás, lélekvándorlás: \_\_\_\_\_

3 pont

11. Válaszd ki a Palesztinára jellemző fogalmakat, neveket, és írd a megoldáshoz ezek betűjeleit!

A) piramisok

E) hieroglifa

B) Nagy Fal

F) Biblia

C) Izrael állam

G) Salamon király

D) barlangfestmények

H) Jeruzsálem

Megoldás: \_\_\_\_\_

4 pont

12. Adj néhány mondatos összefüggő választ arra a kérdésre vagy feladatra, amelyet tanárod az alábbiak közül kiválaszt!

a) Mire használhatta az őskori ember az elejtett állat bőrért, húsát, csontját?

b) Hogyan fejlődött ki a földművelés, és hogyan az állattenyésztés?

c) Melyek voltak az első mesterségek? Írj egy-két mondatot róluk!

d) Jellemezd az öntözéses földművelést!

e) Fölösleg-e a fölösleg? Indokold válaszodat!

f) Hogyan jött létre az Egyiptomi Birodalom?

g) Jellemezd az egyiptomi tudományokat!

h) Írj le röviden egy bibliai (ószövetségi) történetet!

---

---

---

---

---

---

---

---

---

---

---

---

---

---

---

---

---

---

---

---

---

---

---

8 pont

Maximális pontszám:	42
Elért pontszám:	

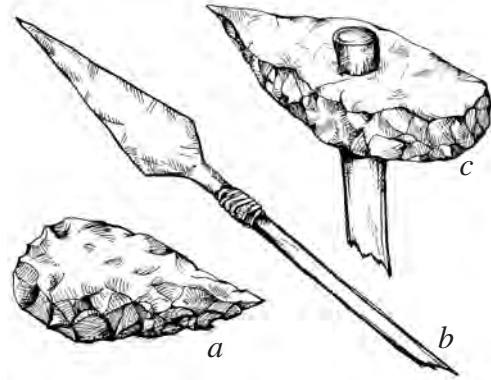
# I. AZ EMBERISÉG ŐSKORA. EGYIPTOM ÉS AZ ÓKORI KELET KULTÚRÁJA

I / B

## témazáró feladatlap

1. A jobb oldali rajzok közül melyik a lándzsa?

Írd ide a betűjelét! \_\_\_\_\_



2. Írd le, mi mindenre használta az őskori ember a tüzet!

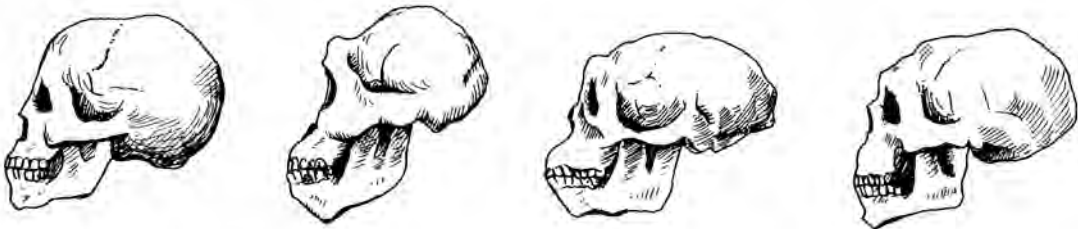
1 pont

---

---

---

3. Írd le, mit ábrázol a rajz!



2 pont

4. Miért nevezzük a történelmi forrásokat „forrásnak”? Karikázd be a helyes válasz betűjelét!

A) Mert a forrás általában a hegyek lábánál van.

B) Mert a források vizéből állnak össze a folyók, hasonlóan ahhoz, ahogy a történész sok kis adatból állítja össze a munkáját.

C) Mert a forrás vize felfrissít, ahogyan a történelem tanulmányozása is.

D) Mert a forrás olyan messze van a nagy folyótól térben, mint mi a régi eseményektől időben.

2 pont

5. A következő rajzokon a történelmi források egyik csoportját látod. Melyiket?



3 pont

Válasz: A(z) \_\_\_\_\_ forrásokat.

6. A felsoroltak közül mi tartozik a régész szokásos szerszámai közé? Karikázd be a helyes állítások betűjelét!

- |                   |                  |
|-------------------|------------------|
| A) csavarhúzó     | D) kefe          |
| B) kés (bontókés) | E) ásatási napló |
| C) ágyú           | F) kézi ásó      |

4 pont

7. Mely tudományágak voltak fejlettek Egyiptomban, és miért éppen ezek?

---

---

---

---

---

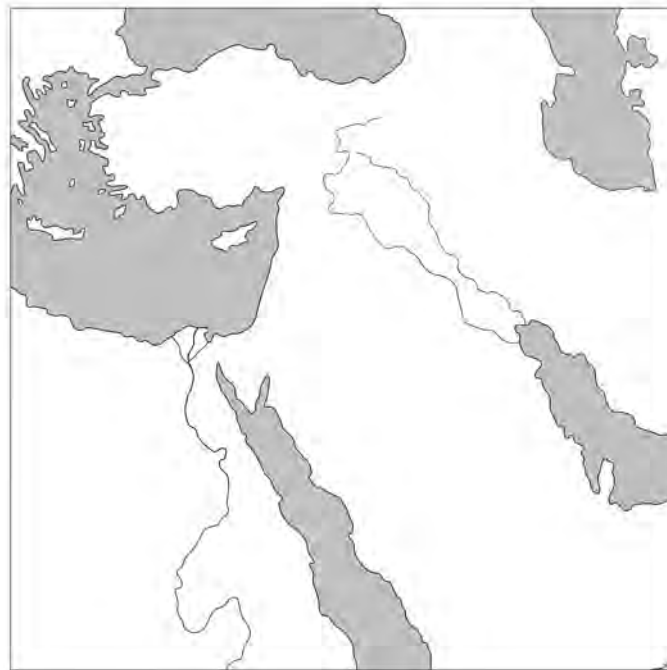
---

---

---

5 pont

8. Jelöld a térképvezálaton Egyiptomot **E** és Mezopotámiát **M** betűvel!



2 pont

9. Egészítsd ki a mondatot: Egyiptomban az előkelő halottak testét \_\_\_\_\_, így készült a \_\_\_\_\_.

4 pont

10. Válaszd ki a Palesztinára jellemző fogalmakat, neveket, és írd a megoldáshoz ezek betűjeleit!

A) toronytemplom

E) Ré (Napisten)

B) zsidó állam

F) többistenhit

C) fáraó

G) Dávid király

D) egyistenhit

H) Mózes

Megoldás: \_\_\_\_\_

4 pont

11. Hogy nevezik a Biblia két nagy részét?

\_\_\_\_\_ és \_\_\_\_\_

4 pont

12. Adj néhány mondatos összefüggő választ arra a kérdésre vagy feladatra, amelyet tanárod az alábbiak közül kiválaszt!

- a) Mire használhatta az őskori ember az elejtett állat bőrét, húsát, csontját?
- b) Hogyan fejlődött ki a földművelés, és hogyan az állattenyésztés?
- c) Melyek voltak az első mesterségek? Írj egy-két mondatot róluk!
- d) Jellemezd az öntözéses földművelést!
- e) Fölösleg-e a fölösleg? Indokold válaszodat!
- f) Hogyan jött létre az Egyiptomi Birodalom?
- g) Jellemezd az egyiptomi tudományokat!
- h) Írj le röviden egy bibliai (ószövetségi) történetet!

---

---

---

---

---

---

---

---

---

---

---

---

---

---

---

---

---

---

---

---

---

---

---

---

---

---

---

8 pont

<b>Maximális pontszám:</b>	<b>42</b>
<b>Elért pontszám:</b>	



## II. AZ ÓKORI GÖRÖG–RÓMAI VILÁG

### II / A témazáró feladatlap

1. A monda szerint ezen a szigeten állt a labirintus: \_\_\_\_\_ 2 pont


2. Nevezd meg a görög isteneket és lakhelyüket!

A főisten: \_\_\_\_\_

Az alvilág istene: \_\_\_\_\_

Az istenek lakhelye: \_\_\_\_\_ 3 pont

3. Keresztrejtvény. Írd be a válaszokat, majd olvasd el a függőleges, vastagon keretezett sort!



1. A sportrendezvények helyszíne.
2. Itt adták elő a drámákat.
3. Itt győztek Kr. e. 490-ben a görögök a perzsák felett.
4. A tenger istene a görögöknél.
5. Tizenötször választották hadvezérnek Athénben.
6. ... Birodalom, Athén ellenfele.

Megfejtés: \_\_\_\_\_

Írj néhány mondatot a megfejtésről! \_\_\_\_\_

\_\_\_\_\_

\_\_\_\_\_ 4 pont

4. Foglald egy mondatba a szavakat!

a) Athén – arisztokraták – köztársaság

\_\_\_\_\_

\_\_\_\_\_

b) Nagy Sándor – Perzsia – Egyiptom

\_\_\_\_\_

\_\_\_\_\_ 2 pont

5. Jelöld a térképvázlaton kezdőbetűkkel a következő görög és római helyszíneket!

**K:** Kréta; **T:** Trója; **R:** Róma; **J:** Júdea; **E:** Egyiptom



5 pont

6. Állítsd helyes időrendbe az alábbi eseményeket! (Az esemény előtti betűkkel válaszolj!)

- A) szalamiszi tengeri csata
- B) görög bevándorlás a Balkán-félszigetre
- C) az első olimpia
- D) felépül az Akropolisz
- E) Nagy Sándor uralkodása
- F) marathóni csata

3 pont

A helyes időrend: \_\_\_\_\_

7. Kakukktojás. Húzd át azt a nevet, amelyik nem illik a többi közé, majd magyarázd meg választásodat!

- Pheidiász
- Nagy Sándor
- Trója
- Periklész
- Leónidasz

Magyarázat: \_\_\_\_\_

2 pont

**8. Javítsd a hibás mondatot!**

*A pun háborúk oka az volt, hogy Róma is, Görögország is meg akarta szerezni az Egyiptom feletti uralmat.*

Javítás: \_\_\_\_\_  
\_\_\_\_\_  
\_\_\_\_\_  
\_\_\_\_\_

2 pont

**9. Magyarázd meg az alábbi fogalmakat!**

amfora: \_\_\_\_\_  
provincia: \_\_\_\_\_  
gladiátor: \_\_\_\_\_  
légió: \_\_\_\_\_

4 pont

**10. Mikor volt? (Vigyázz! Kr. e. vagy Kr. u.?)**

Az első olimpia: \_\_\_\_\_  
Róma alapítása (legalább is a monda szerint): \_\_\_\_\_  
Julius Caesar meggyilkolása: \_\_\_\_\_

3 pont

**11. Foglald egy mondatba az alábbiakat!**

a) Mária – József – Betlehem

\_\_\_\_\_  
\_\_\_\_\_  
\_\_\_\_\_

b) Nyugatrómai Birodalom – Keletrómai Birodalom – válság

\_\_\_\_\_  
\_\_\_\_\_  
\_\_\_\_\_

4 pont



## II. AZ ÓKORI GÖRÖG–RÓMAI VILÁG

### II / B témazáró feladatlap

#### 1. Nevezd meg őket!

A főisten lánya, a bölcsesség és a művészetek istennője: \_\_\_\_\_

A természeti erők és a tenger istene: \_\_\_\_\_

Leleményes király, aki kitalálta a falovat: \_\_\_\_\_ 3 pont

#### 2. Foglald egy-egy mondatba az alábbiakat!

a) Thermopülai – Leónidasz – 300 hős

\_\_\_\_\_  
\_\_\_\_\_

b) Hérodotosz – Egyiptom – görög–perzsa háborúk

\_\_\_\_\_  
\_\_\_\_\_ 2 pont

#### 3. Állítsd helyes időrendbe az alábbi eseményeket! (Az esemény előtti betűkkel válaszolj!)

A) thermopülai csata

B) a poliszok kialakulása

C) Nagy Sándor uralma

D) trójai háború

E) marathóni csata

F) háború Athén és Spárta (valamint szövetségeseik) között

A helyes időrend: \_\_\_\_\_ 2 pont

#### 4. Kakukktójas. Húzd át azt a nevet, amelyik nem illik a többi közé, majd magyarázd meg választásodat!

Spárta

Attika

Trója

Periklész

Peloponnész-sziget

Magyarázat: \_\_\_\_\_

\_\_\_\_\_  
\_\_\_\_\_ 2 pont

5. Jelöld a térképvázlaton kezdőbetűkkel a következő görög és római helyszíneket!

**Ath:** Athén; **Sz:** Szicília; **P:** Pannónia; **Af:** Afrika; **H:** Hispania



5 pont

6. Javítsd a hibás mondatot!

*Az „Oszd meg és uralkodj!” elve azt jelentette, hogy a gazdagok szétosztották vagyonukat a szegények között, úgy uralkodtak rajtuk.*

Javítás: \_\_\_\_\_

2 pont

7. Magyarázd meg a fogalmakat!

olimpia: \_\_\_\_\_

demokrácia: \_\_\_\_\_

veterán: \_\_\_\_\_

limes: \_\_\_\_\_

4 pont

8. Mikor volt? (Vigyázz! Kr. e. vagy Kr. u.?)

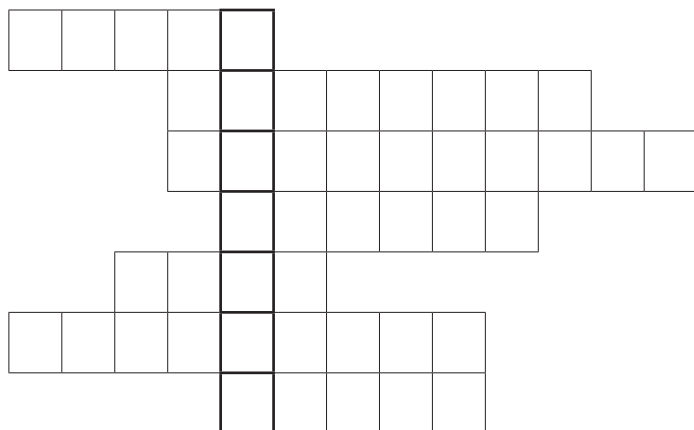
A marathóni csata: \_\_\_\_\_

A demokrácia virágkora Athénban (század): \_\_\_\_\_

A Nyugatrómai Birodalom bukása: \_\_\_\_\_

3 pont

9. Keresztrejtvény. Írd be a válaszokat, majd olvad el a függőleges, vastagon keretezett sort!



1. Romulus testvére.
2. A Dunántúl római kori neve.
3. Jézus életét elbeszélő „jó hír”.
4. Az „Isten ostora”.
5. Hírhedt császár, a „véres költő”.
6. Fegyverrel meghódított tartomány.
7. Ezen a hegységen kelt át Hannibál.

Megfejtés: \_\_\_\_\_

Írj néhány mondatot a megfejtésről! \_\_\_\_\_

4 pont

10. Foglald egy mondatba az alábbi szavakat!

a) punok – csapóhíd – vereség

\_\_\_\_\_  
\_\_\_\_\_

b) kereszténység – vallásüldözés – keresztény vallás engedélyezése

\_\_\_\_\_  
\_\_\_\_\_

4 pont

11. Fogalmazd meg, mi volt a különbség Rómában a köztársaság és a császárság között!

\_\_\_\_\_  
\_\_\_\_\_  
\_\_\_\_\_  
\_\_\_\_\_

3 pont

