


gészítsd ki a mondatokat! A nagy földrajzi felfedezések...

ka \_\_\_\_\_

lehetősége(i) \_\_\_\_\_

övetkezménye \_\_\_\_\_

észíts jelmagyarázatot a térképhez!



merd fel a híres történelmi személyeket képzeletbeli „névjegyek” alapján! Írd a  
sokat a vonalakra!

iba indultam, az Újvilágba jutottam. \_\_\_\_\_


zásom bizonyította, hogy a Föld gömb alakú. \_\_\_\_\_

agyok a Napkirály. \_\_\_\_\_

sbordájúak élén harcoltam. \_\_\_\_\_

acsúcédulák elleni küzdelemmel kezdtem harcomat. \_\_\_\_\_

másnap csak a szélvészt tettem elérhetővé a világunkat.



- C) AIAIUUKPTLZMS
- D) GRFSTVOÓÉÉ
- E) RTTKDÚIAA
- F) KSTÉŐ
- G) NYMTLKOÁÁ
- H) ZSVTJLGOÓÁÁ
- I) AEDRK
- J) SSTTNPRÁEO
- K) SZTJEUIA
- L) AAETNMLRP

Értelmezd a fogalmakat!

---



---



---



---



---



---



---



---



---



---



---

Foglald mondatba a megfejtést!

Írd meg a képzeletbeli táviratok feladóit, majd állítsd sorrendbe a táviratokat!

Számoltam a fonálínséget.

Levegőm 36 km/h sebességgel száguldott.

Átfordult! A gőz energiáját forgómozgássá alakítottam

Feladó	Sorrend

inette-et, hogy két gyermekükkel együtt menjenek velük Párizsba. Itt a király  
 n volt aláírni a nemzetgyűlés reformjait. Miután ráébredt a személyét fenyegető  
 élyre, Lajos a családjával együtt elmenekült. Az északkeleti határ közelében az  
 állították, s gyakorlatilag fogolyként vitték őket vissza [D]. 1792. szeptember 20-án  
 nvent megszavazta a királyság eltörlését, s kikiáltották a [E]. Hazaárulás vádjá  
 kodót bíróság elé állították és [F] szavazattal [G] szavazat ellenében halálra ítélték.  
 üldték guillotine alá. Felesége kilenc hónap múlva követte őt...”

(év, hónap, nap) \_\_\_\_\_

(houá) \_\_\_\_\_

(név) \_\_\_\_\_

(houá) \_\_\_\_\_

(mit) \_\_\_\_\_

Hitel megjelenési éve

– Mátyás születése \_\_\_\_\_

Népek tavasza

– Dózsa parasztfelkelése \_\_\_\_\_

(év, hónap, nap) \_\_\_\_\_

ajtsd meg Napóleon egyik megszívlelendő mondását! (Csak az olvasás irányá  
 írtened! Könnyítésül megjelöltük a kezdőbetűt.)

E	H	Y	Ö	T	A
T	O	G	B	T	J
R	S	E	B	A	Ó
É	S	T	M	L	V
Ú	Z	N	I	Z	Á

a) A mondás

\_\_\_\_\_

\_\_\_\_\_

b) Keresz hasonló tartalmú szólást vagy közmon

\_\_\_\_\_

öltsd ki a rejtvényt! Az azonos számok azonos betűt jelölnek!

2	3	4	5	6	7	8	9	10	4	11	

28 kötetes tudom

12	13	14	15	16	17	11	17	15	18	

1792. IX. 20.

20	11	17	21	4	2	18	14	7	2

Az első amerikai elnök

19	7	16	7	18	22	4	2	7	

Napóleon oroszországi csatája

6	11	19	10	11	21	15	13		

Itt alakul a rendi gyűlés nemzetgyűléssé

19	7	23	16	19	7	2			

A „Lajosok” dinasztíája

5	23	14	23	13	7	24			

Napóleon orosz ellenfele

25	11	5	7	19	4	2	23	17	7	5	

Vezetőjük Robespierre

2	1	6	17	7	2				

Angol admirális,  
Napóleon ellenfele

14	12	16	24	9	2	22	5	12	2	22	24

Code Napoleon

17	13	15	26	27	13	9	17				

Kötelezés az ország elhagyására

**9.** Magyarázd meg az alábbi fogalmakat! A számok ismét betűket rejtenek. (L. 8. feladat)

5	4	16	15	6	22	4			

12	2	5	9	2	22	23	16	11	6	7	26

11	6	5	7	14	26	15	2	22	7	17	

5	4	16	15	6	22	17	15	18			

17	13	1	2	14					

17	13	12	24	1	14	17	9	18			

# Az olasz és a német egység

Írj meg, milyen fogalmat rejt a betűpiramis! \_\_\_\_\_

	S				
	N	N			
I	O	U	I		
C	L	Z	M	A	

Eszmei célja: \_\_\_\_\_

Gazdasági célja: \_\_\_\_\_

XIX. századi jelentése: \_\_\_\_\_

Ábrázold ki a vaktérképet a tankönyved és a történelmi atlaszod térképe alapján!

- 1) Írd be a tengerek nevét!
- 2) Írd be a szigetek nevét!
- 3) Színezd *pirosra* Garibaldi part-  
aszállításának helyét!
- 4) Színezd *zöldre* a legerősebb  
észak-itáliai államot!
- 5) Jelöld be azt a várost, ahol  
1861-ben kikiáltották az Olasz  
Királyságot!
- 6) Jelöld be azt a várost, ahol  
1870-ben létrejött az olasz nem-  
zetállam!
- 7) Jelöld be azt a várost, ahol a  
Vöröskereszt van!

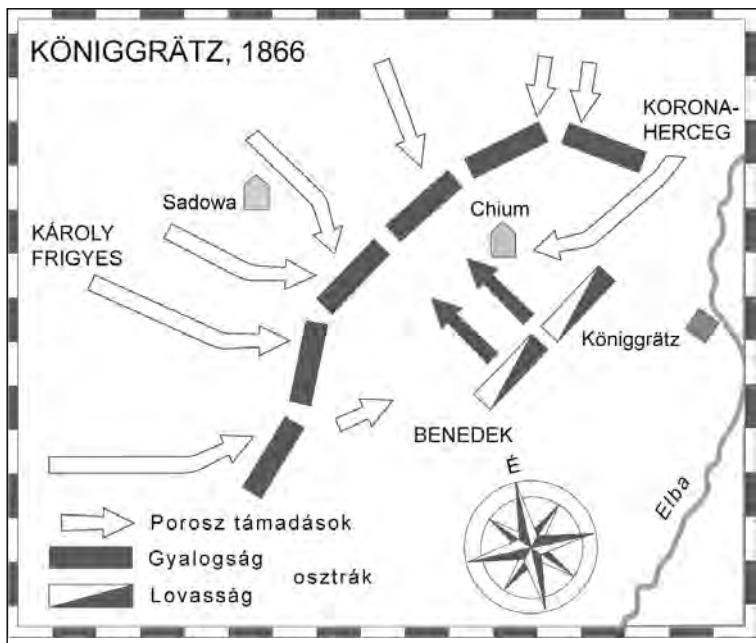


Írj meg a keresztretjvényt, és  
tudhatod a Vöröskereszt alapí-  
tójának a nevét!


... melletti szigetre vonult vissza Garibaldi, és  
Észak-Itália az ő uralmuk alatt állt.  
Észak-Itália legerősebb állama.  
A vöröskeresztet a vöröskereszt vezére

...mikus		
...ború ...ete		
...zdelem ...redménye		

...zínezd ki *pirossal* a városokat a csataterképen, *kékkel* az osztrák, *zölddel* a po  
...atokat! Írj három igaz állítást a csatáról!



b) Becsüld meg, hogy körülbelül hányszorosára nőtt az Egyesült Államok területén az alapító gyarmat területéhez képest!

c) Sorold fel az USA területén élő indián törzseket!

d) Milyen módon növelte az USA saját területét?

e) Használd a betűket a megfelelő helyre! Alkoss a betűkből értelmes szavakat! Mit tudsz az amerikai fejlődésekről?

Észak-amerikai államok: \_\_\_\_\_

Dél-amerikai államok: \_\_\_\_\_

Észak-amerikai államok	R
Dél-amerikai államok	W
Észak-amerikai államok	A
Dél-amerikai államok	I
Észak-amerikai államok	C
Dél-amerikai államok	S

farmerek	H
9 millió lakos	H
vasútvonalak	I
aranyásók	N
négerek	M
konföderáció	O

22 millió lakos
rabszolga-üzemeltetés
23 állam
11 állam
Unió
Grant

f) Összegezd az északiak és a déliek közötti ellentét okait!

g) Jelöld **É** vagy **D** betűvel, hogy melyik félnek kedveztek az alább felsoroltak!

rendezd táblázatba a legjelentősebb csatákat a történelmi atlaszod alapján!

vszám	Unió győzelem	Konföderációs győzelem
CCCLXI		
CCCLXII		
CCCLXIII		
CCCLXIV		
CCCLXV		

Öld kapsos jellel a 25. oldali időszakon a polgárháború éveit!

Írd számba (a 6. osztályos tankönyv 70. oldala vagy a világháló segítségével), melyik államok alapító állam melyik oldalon állt a polgárháborúban! (A déli államok: Texas, Mississippi, Arkansas, Tennessee, Alabama, Georgia, Florida, Észak-Karolina, Virginia.)

szakiak oldalán: \_\_\_\_\_

iek oldalán: \_\_\_\_\_

Önj le következtetéseket a diagramból a rabszolgák számára vonatkozóan!

---

---

---

---

---

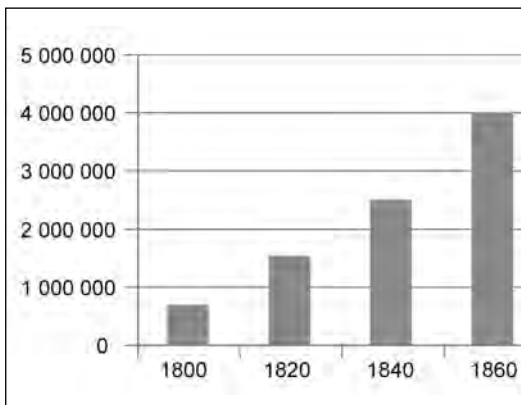
---

---

---

---

---





v	Az éves termelés (ezer dollárban)
30	346
40	394
50	458
60	558
70	628
80	680
90	785

A termelés 60 év alatt \_\_\_\_\_

A legnagyobb növekedésre \_\_\_\_\_ között kerül

A legkisebb növekedésre \_\_\_\_\_ között kerül

1850 és 1860 között körülbelül \_\_\_\_%-os a vált

1840 és 1890 között a termelés majdnem \_\_\_\_\_

brázold az oszlopdiaagramon csökkenő sorrendben az éves termelésre (ezer d  
utkozó 1890-es adatokat!

ciaország	515								
sburg Birodalom	381								
y-Britannia	785								
etország	537								
zország	311								
szország	182								

izonyítsd be, hogy a XIX. század második felében Anglia volt a világ vezető  
zdasági hatalma! \_\_\_\_\_

olitikai hatalma! \_\_\_\_\_

yózz meg egy kétkedőt a tőke kivétel előnyeiről! Válaszodban használd a nyersa  
c, a munkaerő és a szállítási költség fogalmakat!

Mi volt a szipojfelkelés közvetlen oka? \_\_\_\_\_

Észítsd ki a hiányos szöveget!

X. század \_\_\_\_\_ felét viktoriánus kornak nevezik. A névadó kirá-  
\_\_\_\_\_ évig uralkodott. \_\_\_\_\_ kötött házasság-  
\_\_\_\_\_ gyermek született. Uralkodása alatt minden \_\_\_\_\_ ler-  
obogó. Nevét őrzi az \_\_\_\_\_ Viktória állam, az \_\_\_\_\_  
-tó, az \_\_\_\_\_ Viktória-sivatag. Kormányzása idején az a  
aság \_\_\_\_\_ . Javult az \_\_\_\_\_ ellátás, emelke  
\_\_\_\_\_ színvonala, bevezették a \_\_\_\_\_ rendszert  
\_\_\_\_\_ órás munkaidőt.

Olvasd el az *Anglia két fő politikai pártjának nevééről* szóló történetet! Fejtsd meg a  
szó szavakat az ókori titkosírás (Polübiosz-négyzet) segítségével!

Ennek betűhöz tartozik egy kétjegyű szám,  
amelynek első tagja a vízszintes sor száma,  
a második tagja a függőleges sor száma.

1 = É 43 = P 51 = T)

	1	2	3	4	5
1	A	Á	B	C	D
2	É	F	G	H	I
3	K	L	M	N	O
4	Ö	Ő	P	Q	R
5	T	U	Ú	Ü	Ű
6	W	X	Y	Z	

Angliában hosszú ideig két párt versengett a hatalomért, a tory [tori]  
[vig]. Mindkettő eredetileg gúnynév volt. I. Károly idejében torynak nevezték  
az ír rablóbandákat, amelyek az országban mindenfelé rabolgattak. Később ez  
jel illeték az írek védelmezőjének, Jakab yorki hercegnek a híveit, majd pedig  
az udvarhú pártot.

A whig elnevezés skót eredetű; így nevezték a skót parasztokat, állítólag azért,  
amelyek ezzel a kiáltással (whigam – vigöm) ösztönözték. Ezt az elnevezést kez-  
válták a skót felkelőkre, majd a köztársasági párt tagjait is ezzel a jelzővel ille-

Közlekedés	Hírközlés	Üzleti élet	Magánélet

Állítsd időrendbe a találmányokat! Kezdd a legkorábbival!

léghajó — gőzgép — repülőgép — fonográf — távíró — gőz

asonlítsd össze a két ipari forradalom közlekedésre gyakorolt hatását!

Írd meg, melyik fogalmat rejti a számsor: 51-41-33-16-23-31-52-32-51-53-4  
 (Használd segítségül a munkafüzet 13. oldali kulcsát!) Magyarázd meg a fogalmat!

Magyarázd meg, hogy a 4. feladatban megfejtésül kapott fogalom miért a század végéig nem volt meghatározóvá!

Állítsd meg a találmányokat és a feltalálóikat!



ó	1844	Az „északiak” fővárosa	
égpálya	1876	Cromwell országa	
onközpont	1877	A teadélután városa	
mos erőmű	1881	Szabadságszobra látható már az óceánról	
mos	1881	Németország fővárosa	
alatti	1890	A Kristálypalota városa	
i	1895	A Bastille városa	
ógár	1886	Bismarck országa	
gólépcső	1900	Az Eiffel-torony városa	
ülógépgyártás	1903	Washington elnök országa	

keresd meg a betűhálóban elrejtett feltalálókat! Olvasd össze a megmaradt betűket, és írd fel a nevezetesek után, miről nevezetesek!

F	L	U	M	I	E	R	E	M	O	B	N
O	N	B	L	E	R	I	O	T	T	Á	G
R	E	R	U	E	T	S	A	P	O	N	G
D	G	L	R	E	G	N	I	S	L	K	A
B	T	L		E	D	I	S	O	N	I	L
E	N	E	P	U	S	K	Á	S	F	I	A
N	Ö	B	C	S	O	N	K	A	E	R	M
Z	R	T	H	G	I	R	W	F	I	V	B
E	M	I	N	G	T	O	N	É	R	E	K

1	9
2	10
3	11
4	12
5	13
6	14
7	15
8	16

megmaradt betűk: \_\_\_\_\_

nevezetesek? \_\_\_\_\_

gyermekes meg.

gyeld meg a tankönyv 27. oldalán látható iskola képét! Keress hasonlóságok  
nbségeket!

) Olyan, mint ma, mert \_\_\_\_\_

) Nem olyan, mint ma, mert \_\_\_\_\_

válaszolj az alábbi kérdésekre! Mi az oka annak, hogy a polgári államokban  
ökkent az analfabetizmus? \_\_\_\_\_

ött az átlagéletkor? \_\_\_\_\_

vezették a tankötelezettséget? \_\_\_\_\_

jlesztették az egészségügyi ellátást? \_\_\_\_\_

egszervezték a postaszolgálatot? \_\_\_\_\_

hetővé vált a szociálpolitikai ellátás fejlesztése? \_\_\_\_\_

d a fogalmakat a megfelelő helyre a tankönyv 27. oldali képe alapján!

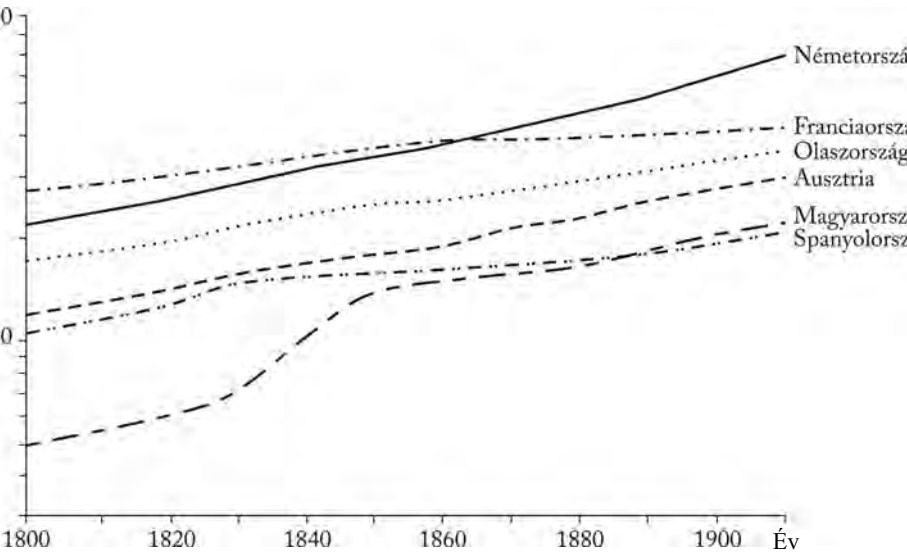
--	--	--	--

--

--

--

--



Zámítsd ki, hogy a következő országokban mikor született meg az általános válsági törvény!

Franciaország	Napóleon bukása után 60 évvel.	
Németország	A császárság kikiáltásának évében.	
Ausztria	Az áprilisi törvények után 50 évvel.	
Magyarország	II. Sándor halála után 36 évvel.	
Spanyolország	A Nemzeti Színház megnyitása után 70 évvel.	

vált jelentős tényezővé a munkásság!

) nem kaptak a nők választójogot? \_\_\_\_\_

) véreztek el az utópisták kísérletei? \_\_\_\_\_

) utasították el az államhatalmat az anarchisták? \_\_\_\_\_

asonlítsd össze a szociáldemokrata és a marxista pártok programját!

	<b>Szociáldemokrata pártok</b>	<b>Marxista pártok</b>
önosságok		
önbségek		

lkoss a betűsorokból értelmes szavakat! Illeszd a fogalmakat a rejtvénybe! Írj r  
khez meghatározást! Melyik szót kaptad megfejtésül?

									KJÁRTZS	_____
									ZBGZSÓAÖ	_____
									ÜÉÉTTNS	_____
									TFRPIO	_____
									TRRLPÁEO	_____
									AAAICHRN	_____
									ÖUAOKZTLJDN	_____
									SIIS	_____
									NCKKLIIEA	_____
									AIÓUPT	_____
									KSTÉÓ	_____











meld ki a tankönyv 30. oldalán olvasható pápai körlevél legfontosabb gondolatait!


 Egy 1913-ban készült, a nők választójogáért kampányoló plakát átrajzolt változatát látod.

a) Fejzd be a plakáton olvasható mondatokat, amelyek a választójogra vonatkoznak!  
Lehet a nő nagykorú, ápolónő, családanya, tanárnő, gyári munkás, \_\_\_\_\_

Lehet a férfi bűnöző, félnótás, rabszolghajcsár, alkalmatlan, iszákos, \_\_\_\_\_

b) Hogyan nevezték a nők választójogáért küzdő aktivistákat? \_\_\_\_\_

Lehet a nő				
				
nagykorú	ápolónő	családanya	tanárnő	gyári munkás
Lehet a férfi				
				
bűnöző	félnótás	rabszolghajcsár	alkalmatlan	iszákos

 Számítsd ki, hogy a következő országokban mikor született meg a női választójogi törvény!

Svájc	Koch Nobel-díja után 66 évvel.	
Németország	Erzsébet királyné halála után 20 évvel.	
Norvégia	A Kristálypalota megépítése után 62 évvel.	
Oroszország	A szipojfelkelés után 61 évvel.	
Svédország	XIII. Leo enciklikája után 30 évvel.	

 \_\_\_\_\_  
\_\_\_\_\_  
\_\_\_\_\_